


Evaluación de Ciencias Naturales primer parcial del segundo Quimestre.

Nombre..... Grado. 7<sup>mo</sup> "B" 2022-2023

1.- Completa el crucigrama, utiliza las pistas que se entregan.

- 1.- Vertebrados que reptan.
- 2.- Vertebrados que maman leche.
- 3.- Vertebrados que tienen su cubierto de plumas.
- 4.- Vertebrados de piel desnuda.
- 5.- Vertebrados de hábitat solamente acuático.



2.- Busca en la sopa de letras el nombre de cada grupo de animales vertebrados



Q	W	E	R	T	Y	Y	U	I	O	L	P	K	J
W	E	R	T	Y	U	I	O	P	A	S	S	D	F
E	W	Q	M	N	B	V	C	X	Z	O	L	K	J
M	O	L	U	S	C	O	S	Y	M	U	I	S	O
V	C	X	Z	A	S	D	F	R	G	H	J	O	K
M	Q	W	E	R	T	Y	E	U	I	O	P	D	L
B	V	C	X	Z	A	D	S	D	F	G	H	O	J
Q	W	E	R	T	O	Y	U	I	O	P	L	P	K
G	U	S	A	N	O	S	U	G	S	D	F	O	G
V	B	N	I	M	Q	W	E	R	T	Y	U	R	I
G	H	U	J	M	E	D	U	S	A	S	K	T	L
S	Q	A	Z	X	C	V	B	N	M	Q	W	R	E
E	P	O	I	U	Y	E	S	P	O	N	J	A	S
J	H	G	F	D	S	A	Z	X	C	V	B	N	M

3.- Elige la respuesta correcta

A través de la función de la relación

- a) Tomamos alimentos, agua, respiramos oxígeno y expulsamos los desechos.
- b) Podemos tener descendientes en la edad adulta.
- c) Recibimos estímulos y reaccionamos ante ellos

4.- Ordena las fases de la función de relación




1.º

2.º

3.º

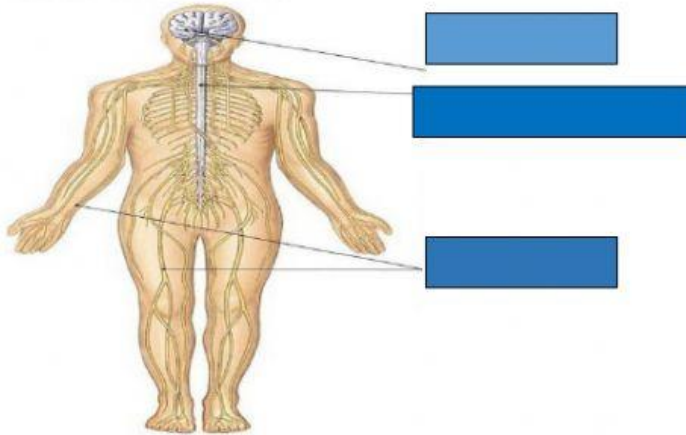
5.- Observa el dibujo de un movimiento voluntario y completo la oración

1. Observa el dibujo de un movimiento voluntario y completa las oraciones.

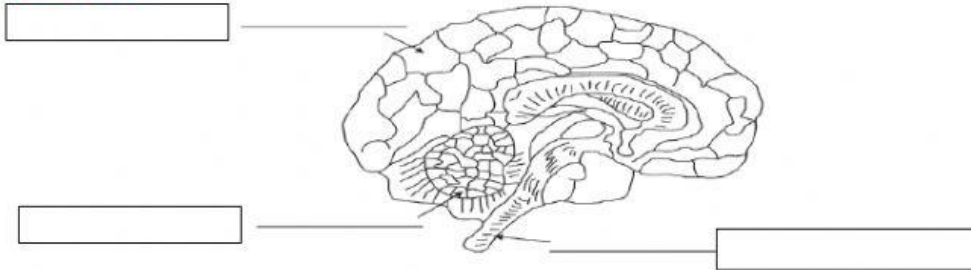


1. El niño capta la información a través de los \_\_\_\_\_.
2. Los \_\_\_\_\_ transmiten la información al \_\_\_\_\_.
3. El \_\_\_\_\_ decide golpear el balón con el pie y ordena a los \_\_\_\_\_ de las piernas que se contraigan.
4. Los \_\_\_\_\_ transmiten la información a los \_\_\_\_\_ de la pierna.
5. Los músculos se contraen y la pierna \_\_\_\_\_.

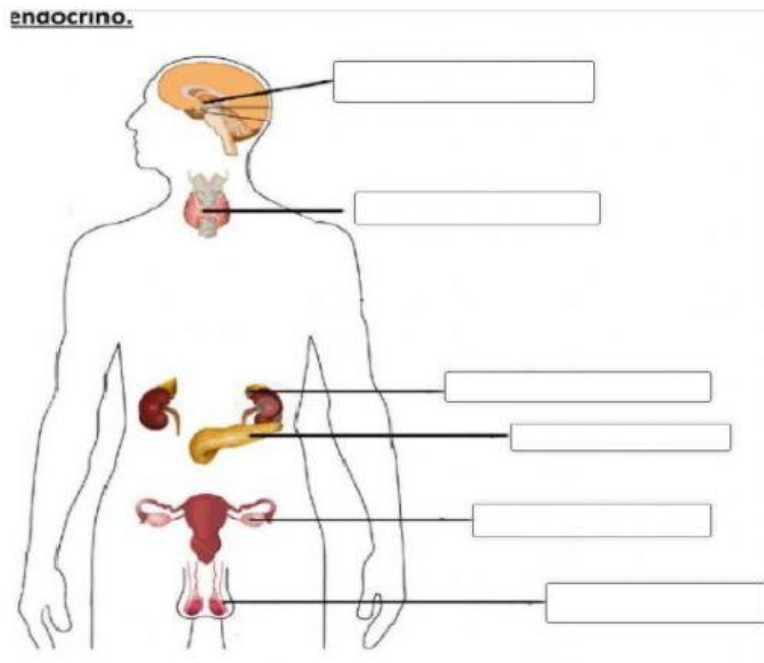
6.- Completa las partes del sistema nervioso.



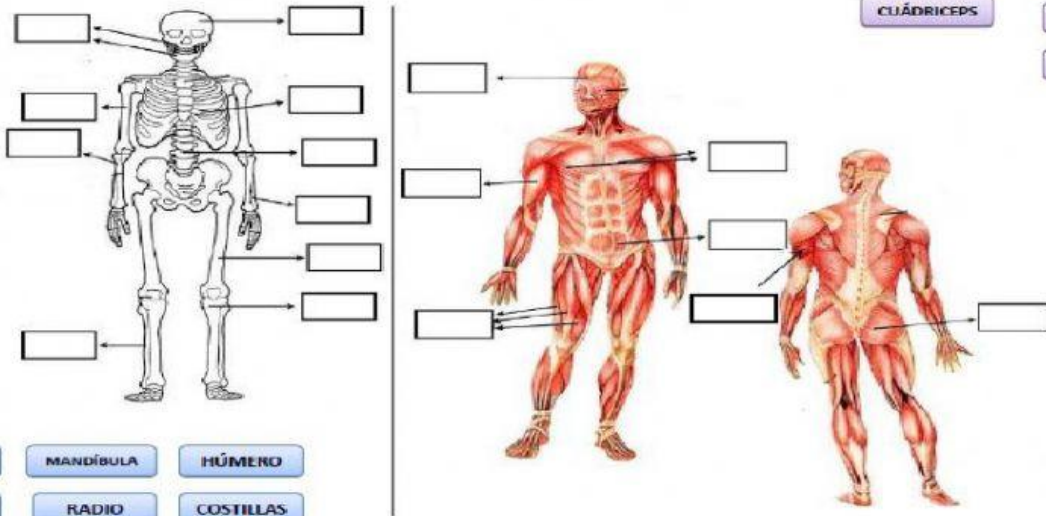
7.- Observa y completa:



8.- Escribir el nombre de las principales estructuras del sistema endocrino.



COLOCA EL NOMBRE DE CADA HUESO O MÚSCULO DONDE CORRESPONDA



- BÍCEPS
- TRÍCEPS
- PECTORALES
- GLÚTEOS
- CUÁDRICEPS
- ABDOMEN
- FRONTAL

- TIBIA
- MANDÍBULA
- HÚMERO
- CRÁNEO
- RADIO
- COSTILLAS
- COLUMNA VERTEBRAL
- PERONÉ
- CÚBITO
- FÉMUR

10.- ubicar donde corresponda: los cambios físicos de la pubertad.

Brotan acné en el rostro.	La voz se hace más grave.	Las caderas se ensanchan.
Los hombros se ensanchan.	Crecimiento del vello axilar.	Crecimiento del vello púbico.
Crecen los senos.	Aparece la menstruación.	Comienza el desarrollo del pene y testículos.

Varones


Mujeres


Ambos