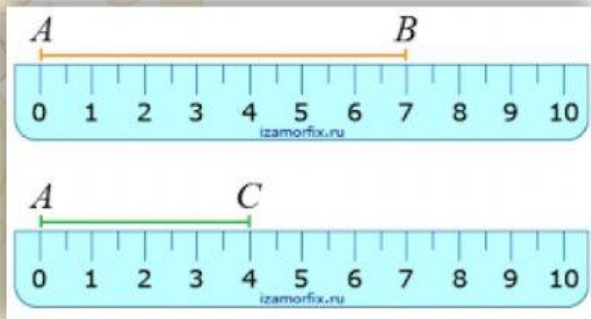



№1 Запиши довжину відрізка



AB=

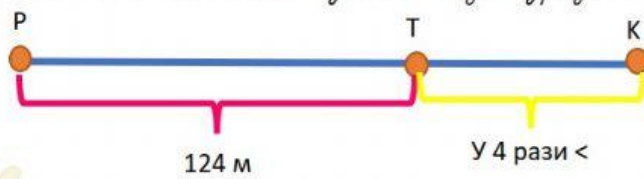
AC=

№2 Визначити довжину відрізка



AC=

№3 Обчислити довжину відрізка



PK=

№4 Визначити довжину відрізка, якщо 1 см = 2 клітинки

AB=

CD=

FE=

