




1. Completa


Son las 9 en punto



Dentro de 1 hora serán...



Son las 7 y media




Dentro de 2 horas serán...



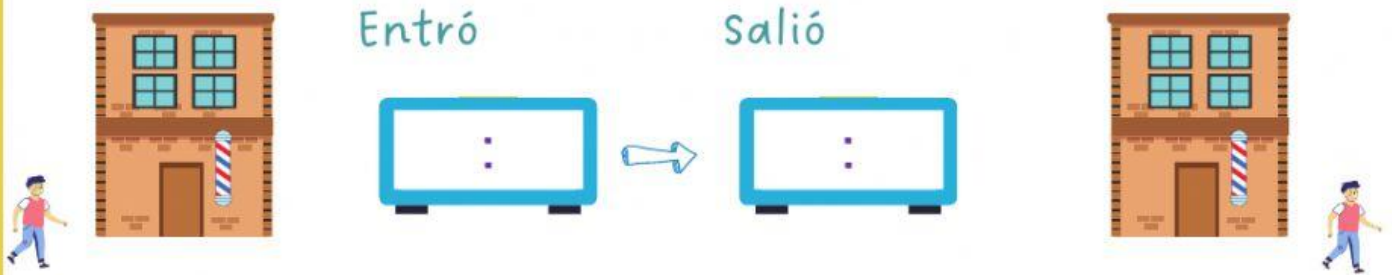
Son las 5 en punto

Dentro de 2 hora y media
serán...

Son las 2 en punto

Dentro de 2 hora y cuarto
serán...

3. Guillermo fue al barbero a cortarse el pelo el sábado a las 12, y tardó media hora. ¿Qué hora era cuando salió del peluquero?



Solución: Guillermo salió a las

4. Indica la opción correcta teniendo en cuenta las agujas



01:00

01:15

01:30

01:45



03:00

03:15

03:30

03:45



05:00

05:15

05:30

05:45



11:00

11:15

11:30

11:45

5. Indica las horas



:



:



:



:

