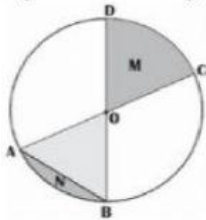
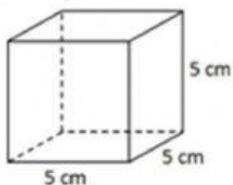


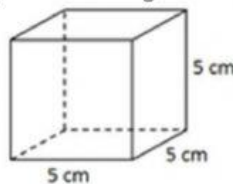
- 1) Nilai bilangan bulat pada garis bilangan semakin ke kanan nilainya semakin ...
- 2) Suhu di kota London 2°C di bawah nol, suhu di kota Jakarta 28° . Selisih kedua kota adalah...
- 3) Bilangan bulat negatif terletak disebelah... angka nol (0)
- 4) Tujuh langkah ke kanan dari titik -2 pada garis bilangan adalah titik
- 5) Tanda yang tepat untuk melengkapi $-15 \dots -3$ adalah...
- 6) Diketahui $256 \times 43 = 43 \times n$, maka nilai n adalah ...
- 7) Hasil dari $13 + (-8) \times 2 = \dots$
- 8) Hasil dari $26 + (-19) - (-42) : 7 + (-12) =$
- 9) Hasil dari $625 + 25 : 5 - 199 = \dots$
- 10) Bagian tembereng lingkaran ditunjukkan oleh huruf



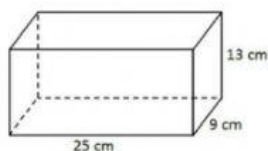
- 11) Daerah M pada gambar di atas (gambar nomor 10) dinamakan
- 12) Daerah lingkaran yang dibatasi oleh busur lingkaran dan dua buah jari-jari lingkaran yang melalui ujung busur lingkaran disebut...
- 13) Daerah lingkaran yang dibatasi oleh busur lingkaran dan tali busur yang melalui kedua ujung busur lingkaran adalah...
- 14) Sebuah lingkaran dengan panjang jari jari 7 cm. Maka keliling lingkaran tersebut adalah cm.
- 15) Luas permukaan bangun ruang berikut adalah.... cm^2 .



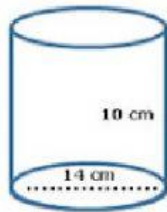
- 16) Volume bangun ruang berikut adalah ... cm^3



- 17) Luas permukaan bangun berikut adalah....



- 18) Sebuah kemasan susu berbentuk balok dengan panjang 15 cm, lebar 9 cm dan tinggi 18 cm. Maka volume kemasan tersebut adalah ... cm^3
- 19) Volume suatu kolam ikan berbentuk kubus adalah 64 m^3 . Panjang sisi kolam tersebut adalah meter
- 20) Sebuah bangun kubus memiliki volume 729 cm^3 . Panjang sisi kubus tersebut adalah
- 21) Sebuah tutup gelas berbentuk lingkaran dengan panjang jari jari 7 cm. Maka luas tutup gelas tersebut adalah cm^2 .
- 22) Keliling bangun lingkaran yang berdiameter 28 adalah
- 23) Tabung adalah bangun ruang yang terbentuk dari 3 bidang sisi yaitu
- 24) Volume tabung dengan ukuran seperti tampak pada gambar adalah cm^3



- 25) Sebuah kaleng roti berbentuk tabung berdiameter 28 cm dan tingginya 10 cm. Volume kaleng roti tersebut adalah cm^3
- 26) Ibu membeli 5 kg beras, 3 kg telur dan 1 kg gula. Jika harga 1 kg beras Rp. 10.000,00, harga 1 kg telur Rp. 22.500,00 dan harga 1 kg gula Rp. 12.500,00, maka jumlah uang yang harus dibayarkan ibu adalah ...
- 27) Bilangan bulat negatif terletak disebelah ... angka nol (0)
- 28) Hasil dari $-24 : (-4) = \dots$
- 29) Hasil dari $6 \times (-9) + (-23) = \dots$
- 30) Nilai bilangan bulat pada garis bilangan semakin ke kiri nilainya semakin ...