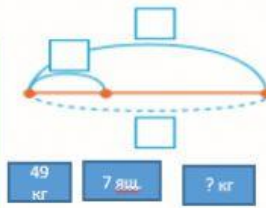


Перетягни числові дані в таблицю та на схему. Запиши розв'язок та коротку відповідь: число та повне найменування.

- 1) 49 кг черешні розклали порівну в 7 ящиків. Скільки кілограмів черешні в одному ящику?

I множник II множник Добуток

	Кількість	Загальна
1	_____	_____
_____	_____	_____



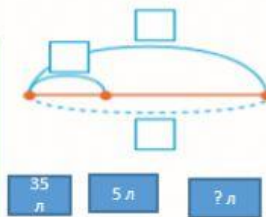
Відповідь: _____

49 кг 7 ящ. ? кг

- 2) 35 л олії розлили в п'ятилітрові бутлі. Скільки одержали бутлів з олією?

I множник II множник Добуток

	Кількість	Загальна
1	_____	_____
_____	_____	_____



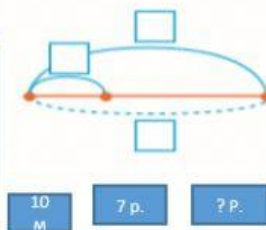
Відповідь: _____

? л 5 л 35 л

- 3) Сашко бігав навколо клумби, яка має форму прямокутника з периметром 10 м. Скільки метрів пробіг Сашко, якщо він оббіг клумбу 7 разів?

I множник II множник Добуток

	Кількість	Загальна
1	_____	_____
_____	_____	_____



Відповідь: _____

7 р. ? р. 10 м