

Nome: .....


## Localização e movimentação: representação de objetos e pontos de referência



### Exercícios




1 - Marque a alternativa correta sobre localização e movimentação: observe a imagem abaixo e responda: onde está o jarro de flores?



- a) Está ao lado da cama;
- b) Está ao lado do abajur;
- c) Está ao lado da janela;
- d) Está do lado direito da cama.

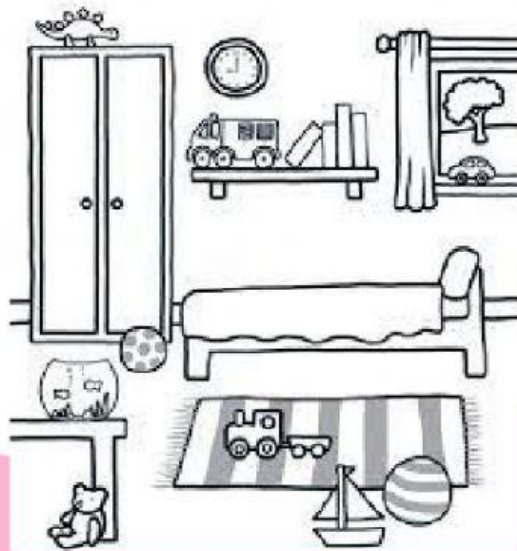


**2 - Preencha o espaço em branco respondendo a seguinte situação: qual é o objeto que está do lado direito da cama?**



**R -**

**3 - Ligue a pergunta ao objeto, usando a imagem abaixo como referência.**



Qual é o objeto que está ao lado da cama?

