

LEMBAR KERJA PESERTA DIDIK (LKPD) KELAS 5

TAHUN AJARAN 2022/2023

Selamat mengerjakan anak-anak kelas 5. Kerjakanlah dengan jujur dan tidak diizinkan kerja sama dalam bentuk apapun! Jangan lupa berdo'a sebelum mulai mengerjakan!

Nama:

Kelas:

1. Jawablah soal-soal berikut dengan tepat!

- Jumlah provinsi di Indonesia adalah.....
 - a. 33
 - b. 35
 - c. 23
 - d. 34
- Pakaian adat khas Lombok adalah.....
 - a. Baju lambung dan pegon
 - b. Kebaya
 - c. Kebaya Ksatrian
 - d. Baju bodo

2. Nama makanan di bawah ini adalah.....



3. Nama pakaian khas ada di bawah ini adalah.....



4. Perhatikan gambar di bawah ini!



Keris

Busur panah Papua



5. Perhatikan gambar di bawah ini!



NTT



Tari kecak



Tari topeng



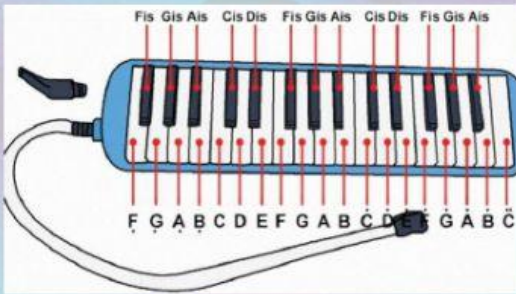



NTB

6. Carilah kata-kata di bawah ini pada kotak yang telah tersedia!

- a. NTB
- b. Pelecing
- c. Angklung
- d. Apuse
- e. Baju bodo

P	E	L	E	C	I	N	G
P	E	B	E	L	I	N	H
K	M	E	P	O	U	T	U
R	I	L	O	L	Z	B	J
A	N	G	K	L	U	N	G
Z	D	G	K	O	Y	V	W
B	N	A	P	U	S	E	R
B	A	J	U	B	O	D	O

7. Dengarkan dengan baik!

8. Perhatikan gambar rumah adat di bawah ini! Kemudian, pilihlah jawaban yang tepat!



9. Pilihlah jawaban yang sesuai dengan pertanyaan dengan cara di centang!

A. Tempat orang Islam ibadah adalah.....



B. Upacara ngaben ditunjukkan pada gambar.....



Nama:

Kelas: