

Matectives 2



Durante este otoño estamos recogiendo muchas cosas típicas de esta estación..



Fíjate en los números y selecciona las opciones que son correctas.



es menor que



y



tienen 8 C



es mayor que












y



son menores de 500

Coge papel y lápiz y calcula. Anota los resultados en la casilla de debajo que corresponda.

 - 	 + 	 - 	 + 	 - 