


Traitements de données

1. Ecris le prénom de chaque enfant au bon endroit.



Selim se trouve juste derrière Sophie.

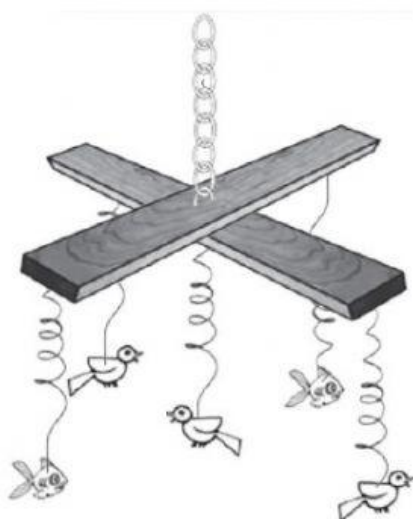
Sophie voit Emile à sa gauche.






Kevin se trouve deux rangs devant Sophie.



2. Dans le tableau ci-dessous, écris les nombres qui convient.





Pour réaliser 3 mobiles, j'ai besoin de ...



...	
...	
...	
...	
...	

3. Lucie possède un billet de 5€ pour acheter sa collation

Combien lui rendra le marchand ?

	 Banane 1€	 Crêpe 2€	 Yaourt 1€	 Pomme 1€	Écris ton calcul :
Antoine			X	X	
Manon		X			
Lucie			X		
Tom	X			X	
Pina		X		X	

4. Je lis un tableau.

	A	B	C	D
1	tomates	panais	pommes de terre	poireaux
2	poivrons	salades	concombres	radis
3	persil	carottes	haricots	courgettes
4	oignons	choux	petits pois	fenouil

a) Ecris la position des légumes suivants :

- Les salades se trouvent dans la case. :
- Les choux se trouvent dans la case. :
- Le persil se trouve dans la case. :



b) Ecris le nom des légumes qui se trouvent en :

- D2 :
- C3 :