


## Grandeurs

1. Coche où tu le vois  $\frac{1}{2}$



2. Ecris le nombre que l'on doit en prendre pour en avoir à chaque fois  $\frac{1}{2}$ .



Il faut  
en prendre .....



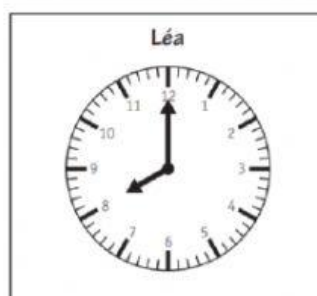
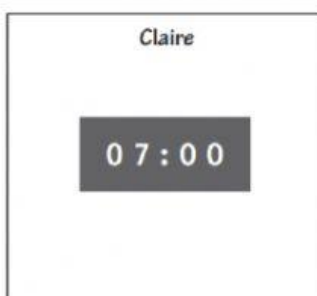
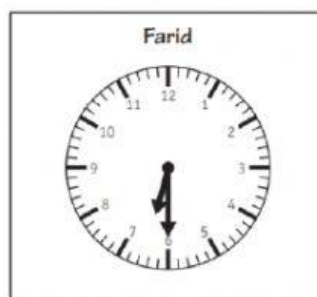
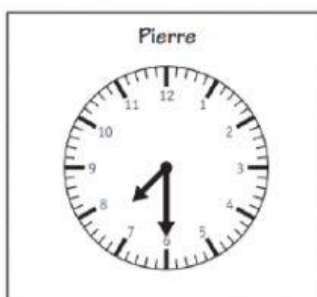
Il faut  
en prendre .....



Il faut  
en prendre .....

3. Les 4 horloges indiquent l'heure à laquelle Pierre, Farid, Claire et Léa se lèvent.

Réponds aux questions en recopiant le prénom qui convient.



Qui se lève le plus tard ?

.....

Qui se lève à 7 heures et demie ?

.....

