



Full Name: .....

Subject: .....

Class : ..... Attendance List: .....

Date : .....

Please Retype This Sentence: "I am an honest kid, I'll do the best for Allah."

﴿Bismillaahirrohmaanirrohiim﴾

**I. Berilah tanda silang (X) pada pilihan A, B atau C untuk jawaban yang benar!**

Bacalah teks informasi di bawah ini untuk menjawab soal nomor 1 hingga 5.

**Kota Jakarta**

Jakarta adalah ibu kota negara kita, Indonesia. Banyak hal – hal menarik yang bisa kita ketahui di kota ini. Kesenian, makanan dan bangunan menarik dari Kota Jakarta memiliki keunikan tersendiri.



Ondel – ondel merupakan kesenian khas Kota Jakarta. Ondel-ondel adalah boneka raksasa yang terbuat dari anyaman bambu. Boneka raksasa ini dihiasi dengan baju dan aksesoris sehingga tampak seperti manusia. Biasanya ondel – ondel dipertontonkan pada acara-acara pesta rakyat seperti panen, penyambutan tamu hingga arak-arakan pengantin. Dalam pertunjukannya ondel-ondel digerakkan oleh seseorang di dalamnya dengan iringan musik khas suku Betawi.

Makanan khas Kota Jakarta sangat beragam. Ada semur jengkol, soto Betawi, asinan, roti buaya, ketoprak dan masih banyak lainnya. Yang paling sering dibicarakan orang adalah semur jengkol. Jengkol berasal dari buah tanaman jengkol. Bentuknya bulat pipih dan bila dihirup dari dekat berbau menyengat. Biasanya jengkol akan direbus terlebih dahulu sebelum diolah menjadi semur jengkol.



Monumen Nasional (Monas) adalah bangunan bersejarah yang dibangun pada masa Presiden Soekarno. Monas dibangun untuk mengingat perjuangan orang Indonesia zaman dahulu melawan Belanda. Bentuk Monas mempunyai ciri khas tersendiri yakni tugu yang menjulang dengan api yang menyala-nyala di atasnya. Seolah menggambarkan semangat orang Indonesia yang terus berjuang sepanjang masa.

- 1) Ondel – ondel merupakan ... khas dari Kota Jakarta.  
A. makanan                      B. bangunan                      C. kesenian
- 2) Makanan - makanan spesial yang berasal dari Kota Jakarta adalah ....  
A. semur jengkol, gudeg, dan sate klatak  
B. roti buaya, kue kering, dan kerak telur  
C. ketoprak, soto Betawi, dan asinan

- 3) Yang termasuk cara khusus dalam mengolah jengkol adalah ....
- memanggangnya hingga krispi
  - merebusnya untuk mengurangi baunya
  - memotongnya menjadi dadu
- 4) Bentuk tugu Monas dengan api yang menyala – nyala di bagian atasnya mempunyai arti ....
- cuaca Kota Jakarta yang lebih sering panas
  - semangat bangsa Indonesia yang terus ada
  - desain yang bagus untuk sebuah monumen
- 5) Pertunjukan ondel – ondel biasanya diadakan saat ....
- berjuang melawan penjajah
  - iring – iringan pernikahan
  - sholat Eid bersama di lapangan
- 6) Makanan kerak telur di zaman sekarang menjadi sulit ditemui.  
Kata yang bergaris bawah memiliki arti yang sama dengan ....
- punah
  - langka
  - kebanyakan
- 7) Ada sepuluh buah jengkol yang dimasak Ibu dengan bumbu rendang.  
Kak Doni memakan *tiga diantaranya* dengan nasi.  
Kata keterangan jumlah yang bisa menggantikan kata yang bercetak tebal adalah ....
- beberapa
  - salah satu
  - tidak ada
- 8) Susunan yang tepat untuk kata – kata acak di bawah ini adalah ....  
kita – mari – egrang – di – bermain – lapangan
- Mari, bermain egrang kita di lapangan!
  - Mari, kita bermain egrang di lapangan!
  - Mari, di lapangan egrang kita bermain!
- 9) *Berapa banyak siswa yang hadir ke sekolah hari ini [ P ]*  
Tanda baca yang sesuai untuk menggantikan huruf (P) pada kalimat di atas adalah ....
- [ . ]
  - [ ? ]
  - [ ! ]
- 10) Nesia membeli lima buah kelereng.  
Ada empat berukuran kecil dan yang lainnya sangat besar.  
Kata keterangan jumlah yang bisa menggantikan kata – kata yang bergaris bawah ialah ....
- banyaknya
  - langkanya
  - salah satunya
- 11) *Ini adalah permainan tradisional.*  
*Perlengkapan permainan terbuat dari kayu.*  
*Mainan ini berbentuk agak bulat dan memiliki poros.*  
*Dibutuhkan tali untuk menarik dan membuatnya berputar.*  
Nama permainan yang tepat berdasarkan deskripsi di atas adalah ....
- kelereng
  - lompat karet
  - gasing

12) Kak Doni dan Kak Ihsan sedang bermain kelereng.

Kak Ihsan sangat jago **menyentil** kelereng.

Ia sering menang dan mendapat banyak kelereng.

Arti kata bercetak tebal pada kalimat di atas adalah .....

- A. Sumbu, poros atau titik tengah dari suatu benda
- B. dipukul dengan belakang ujung jari yang disentak
- C. melepas benang atau tali supaya menjadi panjang

13) Praktikkan dengan menggerakkan anggota badanmu untuk menjawab soal ini!

*Wajahku menghadap ke utara. Maka arah selatan ditunjukkan oleh ....*

- A. punggungku
- B. pundak kananku
- C. kepalaku

14) Setelah pulang ... Jakarta, Ibu dan Nesia langsung mengantar oleh – oleh .... rumah Paman di Surabaya.

Kata depan yang sesuai untuk mengisi titik – titik di atas adalah ....

- A. di, ke
- B. dari, ke
- C. di, dari

15) Perhatikan gambar peta di bawah ini!



Kota Jakarta berada di sebelah .... Kota Bandung.


- A. barat laut
- B. tenggara
- C. timur laut

16) Ibu membeli kue pancong, kerak telur, ... roti buaya untuk sarapan pagi.

Kata penghubung yang tepat untuk mengisi titik- titik di atas adalah ....

- A. tetapi
- B. dan
- C. padahal

17) Monument terkenal yang ada di Kota Jakarta ditunjukkan oleh gambar ....

- A. 
- B. 
- C. 

18) Kalimat di bawah ini yang mempunyai huruf kapital dan tanda baca yang benar adalah ....

- A. Kota jayapura berada di pulau papua.
- B. Kota Jayapura berada di pulau papua.
- C. Kota Jayapura berada di Pulau Papua.



19) Bacalah percakapan di bawah ini!

Nesia : “Ibu, Kak Doni tidak mau berbagi jengkol balado buat aku.”

Ibu : “Benarkah begitu, Kak Doni?”

Kak Doni : “Bukan aku tidak mau berbagi ibu, ... jengkol ini sangat pedas.”

“Adik Nesia nanti sakit perut.”

Kata penghubung yang tepat untuk mengisi titik - titik di atas adalah ....

- A. tetapi                                      B. padahal                                      C. melainkan

20) Ini adalah makanan khas Kota Jakarta.

Makanan ini memiliki bentuk hewan reptil.

Biasanya di buat saat perayaan pesta rakyat atau pernikahan.

Makanan ini Namanya ....

- A. lidah kucing                                      B. roti buaya                                      C. biskuit panda

21) Ini adalah permainan tradisional.

Permainan ini membutuhkan tali yang terbuat dari karet.

Ketika bermain, peserta harus melompat melewati ayunan tali yang bergerak.

Permainan ini dinamakan ....

- A. lompat jauh                                      B. lompat tinggi                                      C. lompat karet

22) Perhatikan peta berikut!



Kita akan pergi ke arah ... dari Kota Palangkaraya ke Kota Tanjung Selor.

- A. barat laut  
B. timur laut  
C. utara

23) Untuk pergi ke Kota Jakarta, Ayah bisa naik kereta ... naik pesawat udara.

Kata hubung yang tepat untuk mengisi titik – titik di atas adalah ....

- A. melainkan                                      B. sedangkan                                      C. atau

24) Tahukah kamu (J) Jika pada hari Minggu, ada pasar kaget di lapangan Monas (K)

Tanda baca yang benar untuk mengisi label huruf (J) dan (K) adalah ....

- A. (!) dan (?)                                      B. (.) dan (,)                                      C. (!) dan (.)

25) Pada zaman sekarang, kita bisa menentukan arah secara daring melalui aplikasi dari telefon pintar yang disebut ....

- A. Google Play                                      B. GPS                                      C. Gmail

## II. Tuliskan jawaban yang benar untuk pertanyaan – pertanyaan di bawah ini!

26) Kata hubung apakah yang sesuai dengan kalimat – kalimat di bawah ini?

Pilihlah yang terbaik dari kata yang ada di dalam kotak!

*sedangkan      melainkan      padahal      serta      dan*

- a) Keunikan Kota Jakarta bisa dipelajari dari makanannya, tempat – tempat menariknya ... keseniannya.
- b) Kak Doni suka kerak telur, ... adik Nesia suka kue pancong.
- c) Ayah bukan melarang Kak Doni ikut ke Jakarta, ... menunda ikut hingga liburan selanjutnya
- d) Penumpang kereta api harus memakai masker, membawa tiket .... membawa KTP.
- e) Adik Nesia menghabiskan semua rendang jengkol, ... rasanya pedas sekali.


27) Perhatikan gambar peta di bawah ini untuk menjawab pertanyaannya!




**TIPS: Buatlah arah mata angin untuk membantumu!**

- a) Ada di sebelah manakah Kota Palu dari Kota Makasar?  
Kota Palu berada di sebelah ... dari Kota Makasar.
- b) Ada di Pulau manakah Kota Manado?  
Pulau Manado berada di ....
- c) Kota Makasar berada di sebelah ... Kota Palu.
- d) Di sebelah tenggara Kota Palu ada Kota ....
- e) Kota Gorontalo berada di sebelah ... Kota Kendari.

28) Deskripsikan permainan di bawah ini dengan mengisi kolom – kolom yang tersedia!

Gambar	Nama Permainan	Cara Bermain
	.....	..... .....
	.....	..... .....
	.....	..... .....

29) Tulislah 8 (delapan) nama arah mata angin yang kita pelajari!



30) Gambarlah garis untuk mencocokkan makna kata-kata di bawah ini dengan benar!

- |            |   |
|------------|---|
| peta •     | • berbentuk tabung                      |
| kompas •   | • gambar yang menunjukkan letak daerah  |
| arca •     | • sebutkan untuk perempuan, suku Betawi |
| none •     | • alat penentu arah mata angin          |
| silinder • | • patung yang terbuat dari batu         |

﴿Alhamdulillahirobbilalamin﴾