


Medidas de peso

1. Completa con las palabras más, menos o igual en el recuadro de cada imagen



El pan pesa _____ que
el lápiz



La sandia pesa _____
que la manzana




La piña pesa _____ que
la bolsa de arroz



El perro pesa _____ que
el gatito




La pluma pesa _____
que la pluma



El saco de papas pesa
_____ que las tres papas

2. **Anoto** en el espacio indicado, "gramos" o "kilogramos" según la cantidad de masa en cada caso.









3. **Calcula el peso que tiene cada bolsa de comida y anota la respuesta en el cuadro**



1 kilo de pan
2 kilo leche
2 kilo de queso
1 kilo de apio
2 kilo de guineo



3 kilo de pan
1 kilo leche
2 kilo de queso
2 kilo de arroz
2 kilo de guineo