


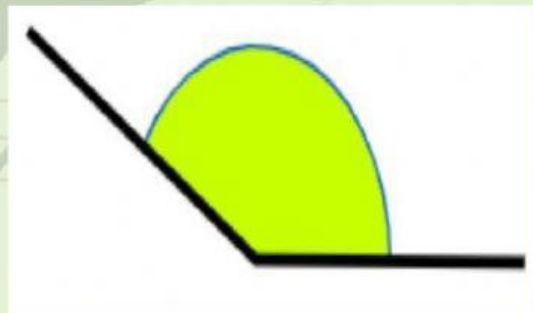


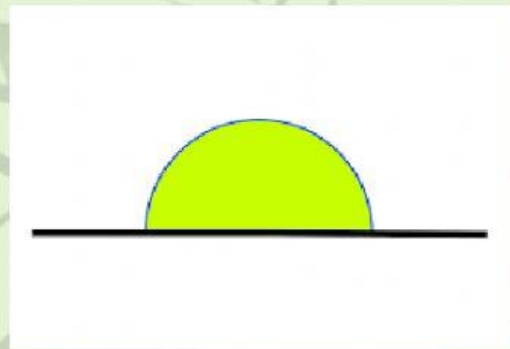
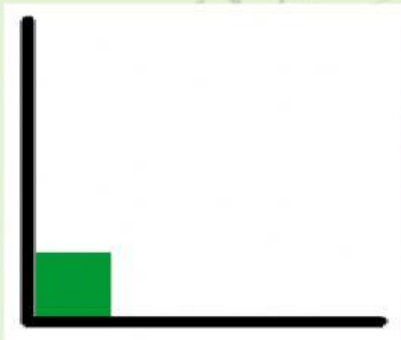
# ÁNGULOS Y SUS CLASES

NOMBRE: \_\_\_\_\_


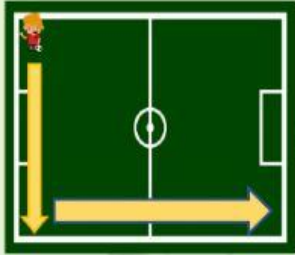
GRADO \_\_\_\_\_

## ACTIVIDADES:

1. Elige el tipo de ángulo que crees que sea el de la figura.



**2. Observa los ángulos presentes en las siguientes imágenes y luego arrástralos a donde corresponde.**



ÁNGULO AGUDO	ÁNGULO RECTO	ÁNGULO OBTUSO	ÁNGULO LLANO