

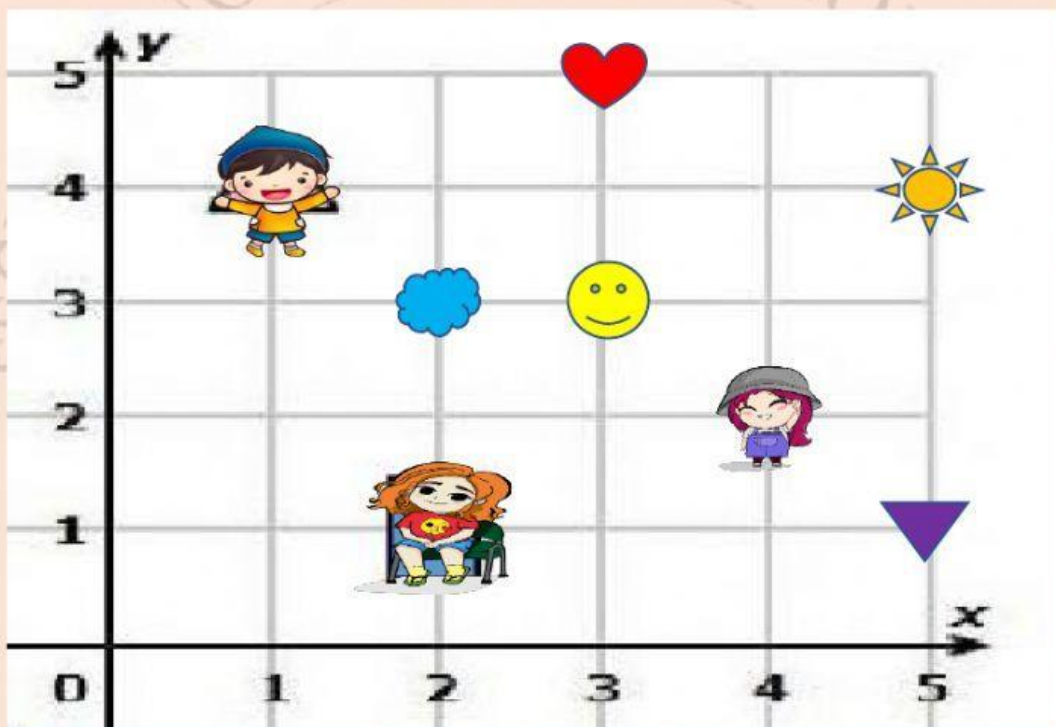
# EL PLANO CARTESIANO

NOMBRE: \_\_\_\_\_





GRADO \_\_\_\_\_

## ACTIVIDADES:

1. Observa con atención el siguiente plano cartesiano y escribe los pares ordenados de cada una de las figuras.



 (   ,   )  
 (   ,   )  
 (   ,   )  
 (   ,   )

 (   ,   )  
 (   ,   )  
 (   ,   )  
 (   ,   )