

TABULACIÓN DE DATOS





NOMBRE: _____

GRADO _____

ACTIVIDADES:

1. Cuenta y escribe cuántas hay.



2. Observa el dibujo. Cuenta los elementos de cada conjunto y completa la tabla.

