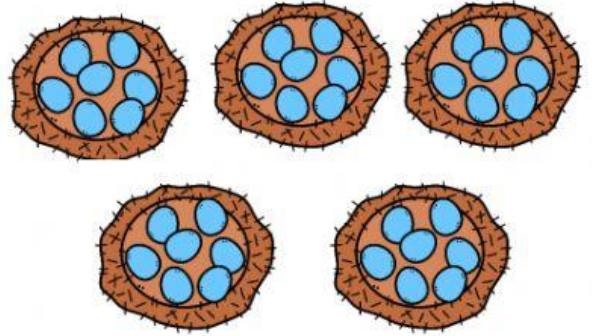


■ Resuelve.

1. Un nido tiene 7 huevos. ¿Cuántos huevos tienen 5 nidos?

Operación:



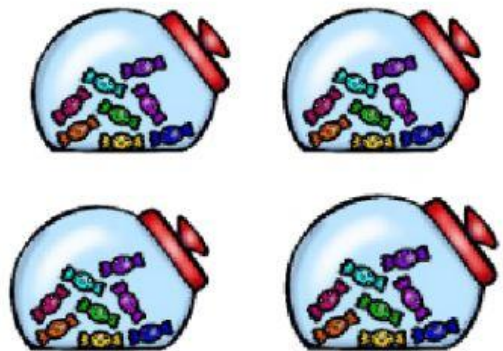
2. Un árbol tiene 5 manzanas. ¿Cuántas manzanas hay en 2 árboles?

Operación:



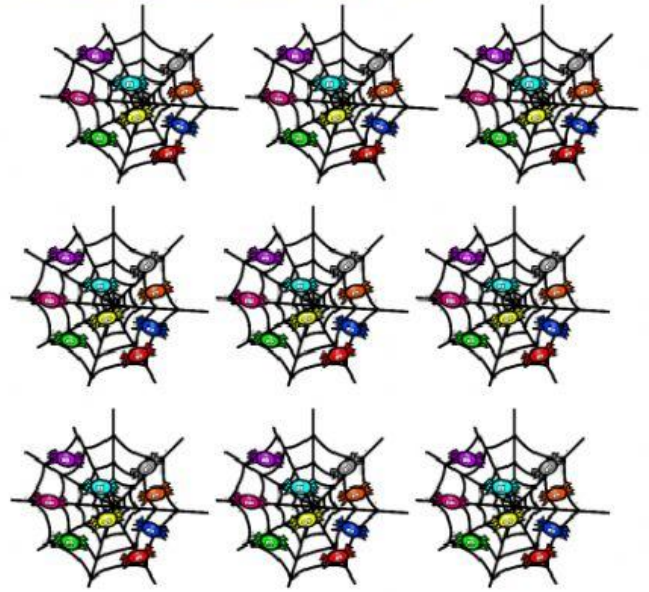
3. En un tarro hay 8 caramelos. ¿Cuántos caramelos hay en 4 tarros?

Operación:




4. En una telaraña hay 9 arañas. ¿Cuántas arañas hay en 7 telarañas?

Operación:



5. En una colmena hay 10 abejas. ¿Cuántas abejas hay en 6 colmenas?

Operación:



6. En una máquina hay 4 chicles. ¿Cuántos chicles hay en 3 máquinas?

Operación:

