

¿Qué hora es?

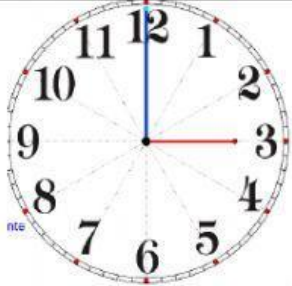

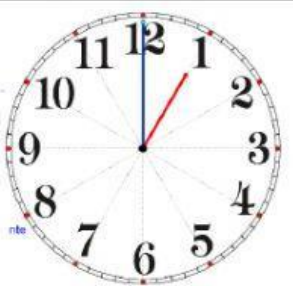

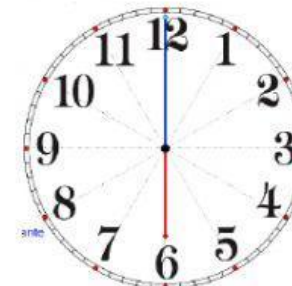
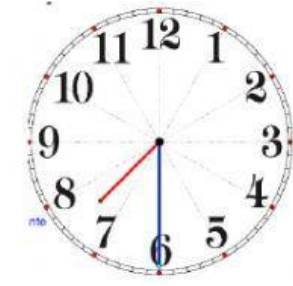


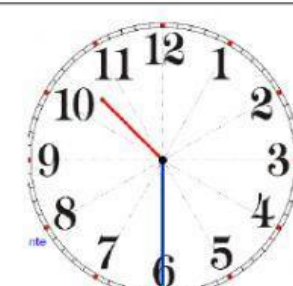
Vamos a jugar a aprender la hora con estas imágenes del reloj de Geogebra. Nivel principiante.

Primero recuerda: Fíjate bien en la aguja horaria (roja)

¿Cuántos minutos tiene una hora? Minutos.

¿Cuántos minutos tiene media hora? Minutos.

Escribe debajo de cada reloj la hora que es. No olvides escribir la expresión completa.

| | | |
|---|---|---|
|  |  |  |
| Son las | Son las | Es la |
|  |  |  |
| Es la | Son las | Son las |
|  |  |  |
| Son las | Son las | Son las |

Elvira López

CEIP Belén

Murcia