

NOMBRE: _____



Une la imagen con su definición y escribe que tipo de textura es segun su volumen, origen, distribución.

Es aquella que se percibe a través de la vista



Colores primarios

Textura táctil

Son aquellos colores formados por dos primarios.



Son aquellas constituidas por formas semejantes distribuidas de manera irregular.



Textura Orgánicas

Colores terciarios

Se trata de aquellas texturas propias de superficies y cuerpos naturales



Son aquellos que se consiguen a través de la mezcla de colores primarios.



Textura visual

Las texturas naturales

Son texturas cuyos elementos componentes se disponen de forma



Es aquella que se percibe mediante el tacto y la visión.



Circulo cromático

Textura Geométricas

Formados por un color primario y un secundario adyacente



Es aquella texturas que provienen de objetos y superficies creados por el hombre.



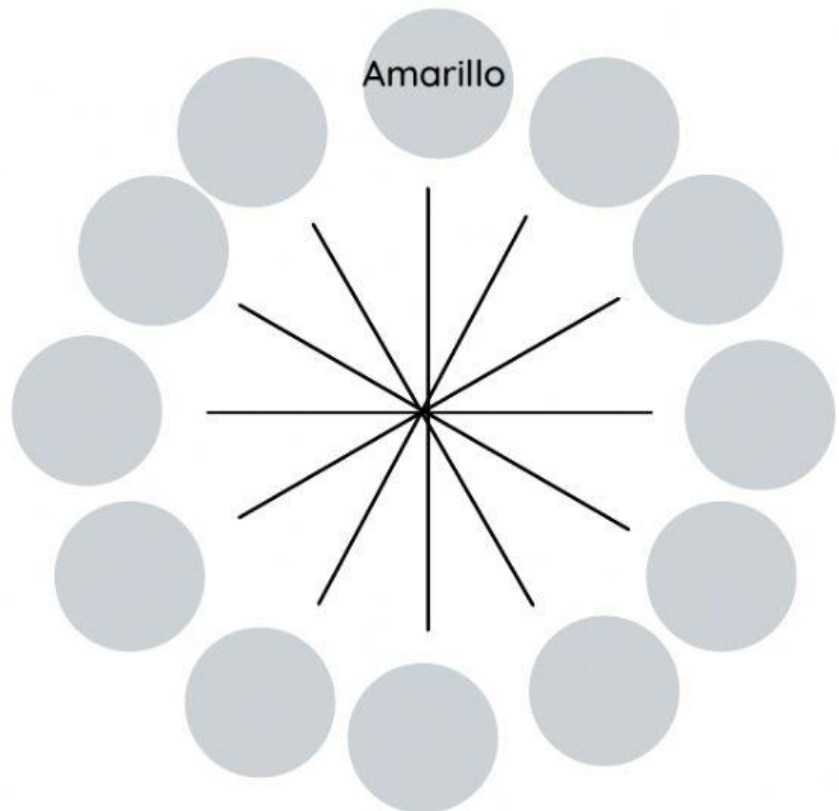

Texturas artificiales

Colores secundarios


Es una representación ordenada y circular de los colores de acuerdo con su matiz o tono



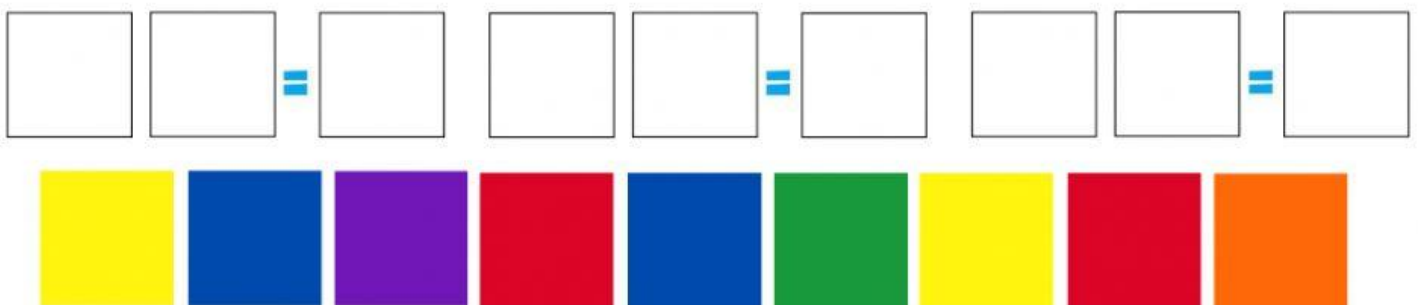
Ordena los colores en el círculo cromático




Arrastra los colores primarios



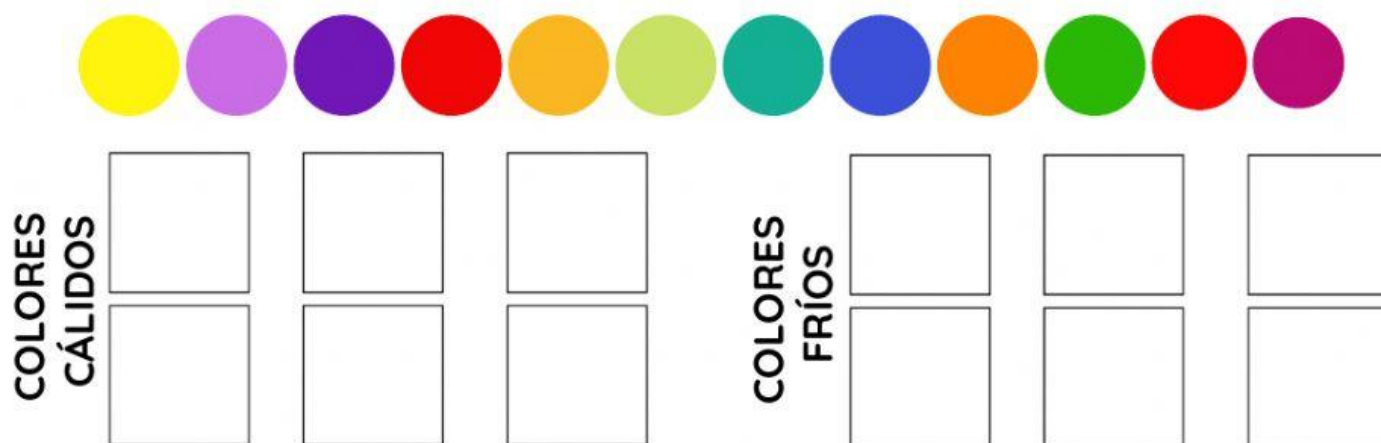
Arrastra y mezcla los colores para obtener los colores secundarios



Escribe el nombre de los colores terciarios



Ordena los colores fríos y cálidos donde corresponda



Selecciona el tipo de textura segun su volumen, origen. distribucio.

