

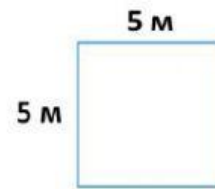
ПЕРИМЕТР І ПЛОЩА

1 Знайди значення довшої сторони.




..... м

2 Визнач площу.



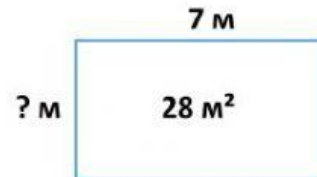
$S =$ м²

3 Обчисли периметр.



$P =$ м

4 Знайди довжину коротшої сторони.



..... м