



GEOGRAFÍA E HISTORIA
Global 1ª Evaluación 1º ESO
Curso 2022/23

PROFESOR:

Nombre y Apellidos :

Grupo (letra):

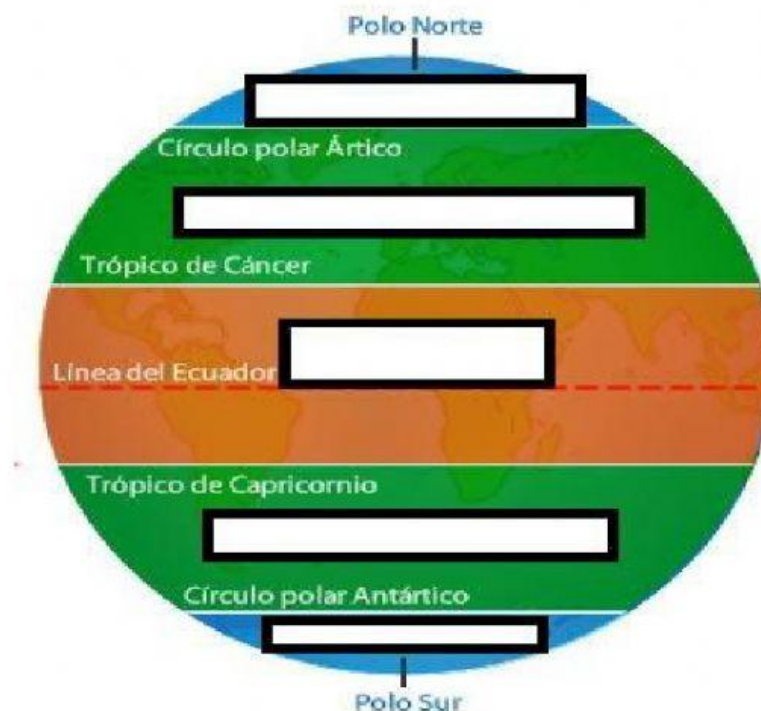
Nº lista :

1º Une con flechas (1 punto)

- **Meridiano:** Distancia angular de cualquier punto al Ecuador
- **Paralelo:** Distancia angular de cualquier punto al Meridiano 0
- **Latitud:** Círculos imaginarios que van de Este a Oeste
- **Longitud:** Semicírculos imaginarios que van de Polo a Polo

2º Sitúa en el globo terráqueo las distintas zonas climáticas. (1 punto)

Diferentes climas de la Tierra





3º Nombra los océanos y continentes que existen (1 punto)

- Océanos:
- Continentes:

4º Señala de los siguientes relieves cuáles son de América: (1 Punto)



Cordillera del Atlas / Montañas Rocosas / Río Nilo / Río Congo / Río Misisipi

Lago Tanganica / Río Danubio/ Escudo canadiense/ Sierra Madre / Himalaya

Los Andes/ Los Alpes / Desierto del Sahara / Lago Chad / Macizo Etíope

Los Apeninos / Meseta Brasileña / Río Misuri / Desierto del Gobi/ Meseta de Mongolia

5º Del siguiente climograma:

| | E | F | M | A | M | J | J | A | S | O | N | D |
|---|------|------|------|------|------|------|------|------|------|----|------|------|
|  Precipitaciones | 58 | 58 | 47 | 38 | 27 | 10 | 1 | 3 | 10 | 29 | 44 | 47 |
|  Temperatura | 13,3 | 13,8 | 14,8 | 16,2 | 18,7 | 21,8 | 24,6 | 25,5 | 23,5 | 20 | 16,7 | 14,4 |

¿Qué meses son los más secos?

¿Qué meses son los más cálidos?



colegio
LA INMACULADA
PADRES ESCOLAPIOS

Pza. Obispo Felipe Scío Ríaza, 1. 28902 Getafe
Tel. 916 951 900 | Fax. 916 951 904
www.escolapiosdegetafe.es
CENTRO PRIVADO CONCERTADO



PROVINCIA
ESCUELAS PÍAS
BETANIA

 **LIVEWORKSHEETS**