



# Repaso las tablas del 2, 3, 4, 5, 6, 7, 8 y 9

Completa las series:


Escribe los números de 2 en 2

 2 ○ ○ 8 ○ ○ ○ ○ ○ ○ ○ ○


Escribe los números de 3 en 3

 3 ○ ○ ○ ○ ○ ○ ○ ○ 27 ○


Escribe los números de 4 en 4

 4 ○ ○ 16 ○ ○ ○ ○ ○ ○ ○ ○


Escribe los números de 5 en 5

 5 ○ ○ ○ ○ ○ ○ ○ ○ 40 ○ ○


Escribe los números de 6 en 6

 6 ○ 18 ○ ○ ○ ○ ○ ○ ○ ○


Escribe los números de 7 en 7

 7 ○ ○ ○ ○ ○ ○ ○ ○ 49 ○ ○ ○ ○

Escribe los números de 8 en 8

 8 ○ ○ ○ ○ ○ ○ ○ ○ 48 ○ ○ ○ ○

Escribe los números de 9 en 9

 9 ○ ○ 36 ○ ○ ○ ○ ○ ○ ○ ○

