

“ACTUALIZACIÓN CIENTÍFICA Y METODOLÓGICA EN LA ENSEÑANZA DE FRACCIONES”

UNIDAD I: COMPRENSIÓN CONCEPTUAL DE FRACCIÓN

HOJA DE TRABAJO

Centro Educativo:

CRFPCSO

Nombre del docente: Deliz Sierra

Nombre del estudiante: _____

Grado: Cuarto / Quinto Fecha: 10-11-2022

Tema: Fracciones

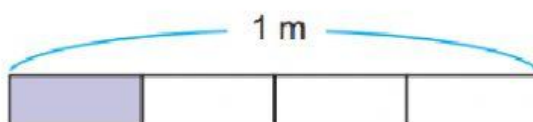


Instrucciones: **Resuelva siguiendo las instrucciones en cada ejercicio.**

Escriba la respuesta correcta dentro del rectángulo...

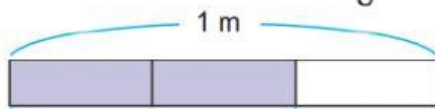
Ejercicio 1.

¿Cuánto mide la parte sombreada?



Ejercicio 2.

¿Cuánto mide dos veces $\frac{1}{3}$ m?



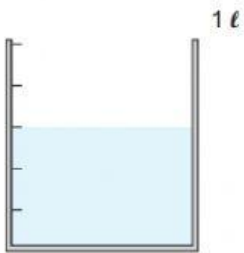
Ejercicio 3.

¿Cuánto mide la parte sombreada?



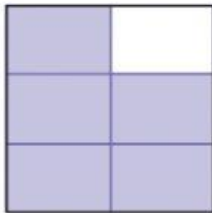
Ejercicio 4.

En el siguiente recipiente de 1 ℓ, ¿cuánto hay de agua?



Ejercicio 5.

¿Cuánto representa la parte sombreada?



Ejercicio 6.

¿Cuánto mide la parte coloreada?



Ejercicio 7.

Convierta las siguientes fracciones mixtas en impropias.

$$2 \frac{3}{4}$$

Ejercicio 8.

Convierta las siguientes fracciones impropias en mixtas

$$\frac{16}{5}$$

Ejercicio 9.

Reduzca las siguientes fracciones a su mínima expresión.

$$\frac{8}{12}$$

Ejercicio 10.

Encuentre el número adecuado en la casilla.

$$3 = \frac{\square}{2}$$