

APROXIMA LOS NÚMEROS A LAS DECENAS

#1

BUSCO LAS DECENAS Y LAS RODEO

5 9

#2

SACO BIGOTES Y SITÚO ENTRE QUÉ DOS DECENAS SE ENCUENTRA EL NÚMERO



PISTA...

¡UNA DECENA YA LA SÉ!

5 9



Y PARA LA OTRA DECENA...
SOLO TENGO QUE SUMAR 10
(50+10)

5 0 6 0

#3


AHORA OBSERVO LAS UNIDADES Y VEO
QUE 9 $>$ 5 ASÍ QUE RODEO LA DECENA
GRANDE

5 9

5 0 6 0




**SITÚO EN LA RECTA NUMÉRICA PARA
COMPROBAR QUE LO HE HECHO BIEN**

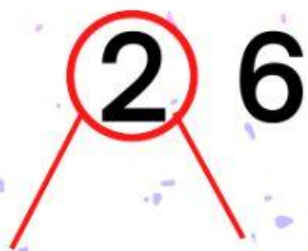





**VEO QUE EL NÚMERO 59 ESTÁ MUCHO MÁS
CERCA DE 60 QUE DE 50**



¡LO TENGO BIEN!









7 7



4 7



3 3



8 4

