



Senda
KNOWMADS®
Elementary



**Guía de
aprendizaje**

**3^{ero} de
primaria**

Ciencias

Naturales

Trimestre 1



**Instituto
Senda**

"Por el aprender a dar, más que por el recibir"



LIVE

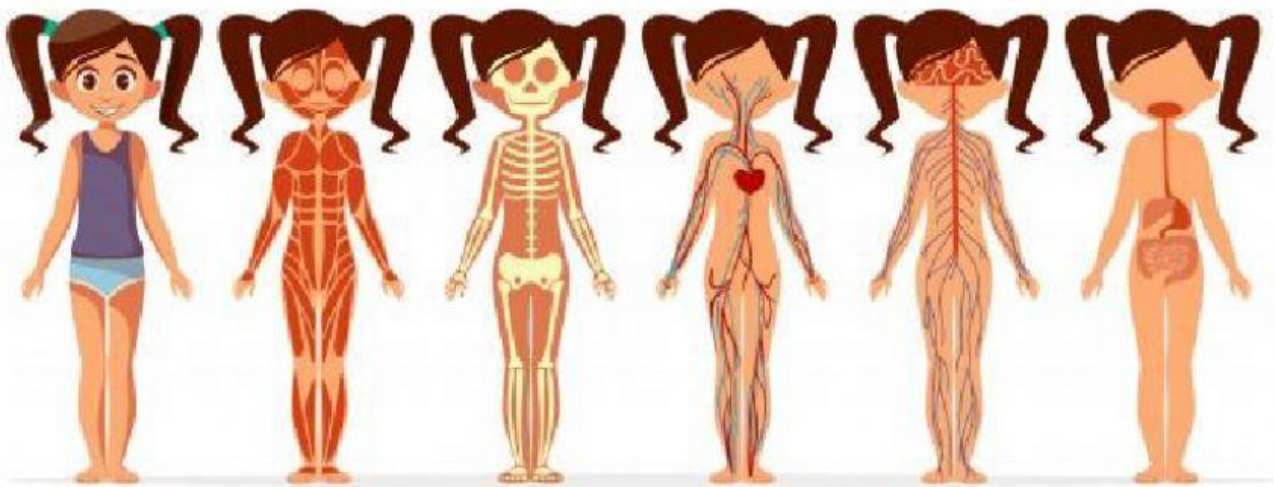
WORKSHEETS

Observa las imágenes y selecciona el nombre del sistema que corresponda apoyándote en el banco de palabras.

Sistema
digestivo

Sistema
nervioso


Sistema
Muscular



Sistema
locomotor

Sistema
circulato
rio

Sistema
esquelético



Coloca las partes de cada sistema como se indica.

- En cuadro azul las que corresponden al sistema óseo,
- En cuadro morado las que son del sistema muscular.

Sistema óseo

Sistema muscular

Huesos

Músculos

Articulaciones


Cartílagos

Cerebro

Ligamen
tos

Médula
espinal

Nervios





Selecciona las afirmaciones que

- Para ~~mover el cuerpo~~ ^{sean correctas}, el sistema muscular manda señales a los músculos a través de los nervios.
- Para mover el cuerpo, el sistema nervioso manda señales a los músculos a través de los nervios.
- El cuerpo humano se mueve gracias al sistema locomotor.
- El cuerpo humano se mueve gracias al sistema digestivo.

☐☐☐☐

Lee con mucha atención cada pregunta y contesta correctamente lo que se te pide.

1. Cuando comes, ¿cuál es el sistema que interviene en el proceso de absorción de los nutrientes?
2. ¿Cuál es la primera parte del sistema digestivo donde comienza la digestión?



Escribe dentro del plato del buen comer los 3 grupos de alimentos que lo forman y completa lo que falta.

1.-Las frutas y verduras nos brindan _____ y

2.-Las leguminosas y productos de origen animal aportan al cuerpo

3.-Los cereales proporcionan

a tu cuerpo _____

