

Nombre y apellidos:

Fecha:



Evaluación de matemáticas

SELECCIONA SEGÚN CORRESPONDA

No tiene principio ni fin.

Tiene punto de origen pero no tiene final.

Es la parte de recta limitada entre dos puntos.

ESCRIBE EL TIPO DE LÍNEA SEGÚN SU FORMA, DIRECCIÓN Y POSICIÓN.

Son aquellas que forman un ángulo de 90°

Son aquellas que nunca se corta

Es aquella que está formada por forma redondeada

Son aquellas que tiene un punto en común

Es aquella que está compuesta por varias línea


Está compuesta por líneas curvas y rectas

Es una línea recta que se traza de forma perpendicular.

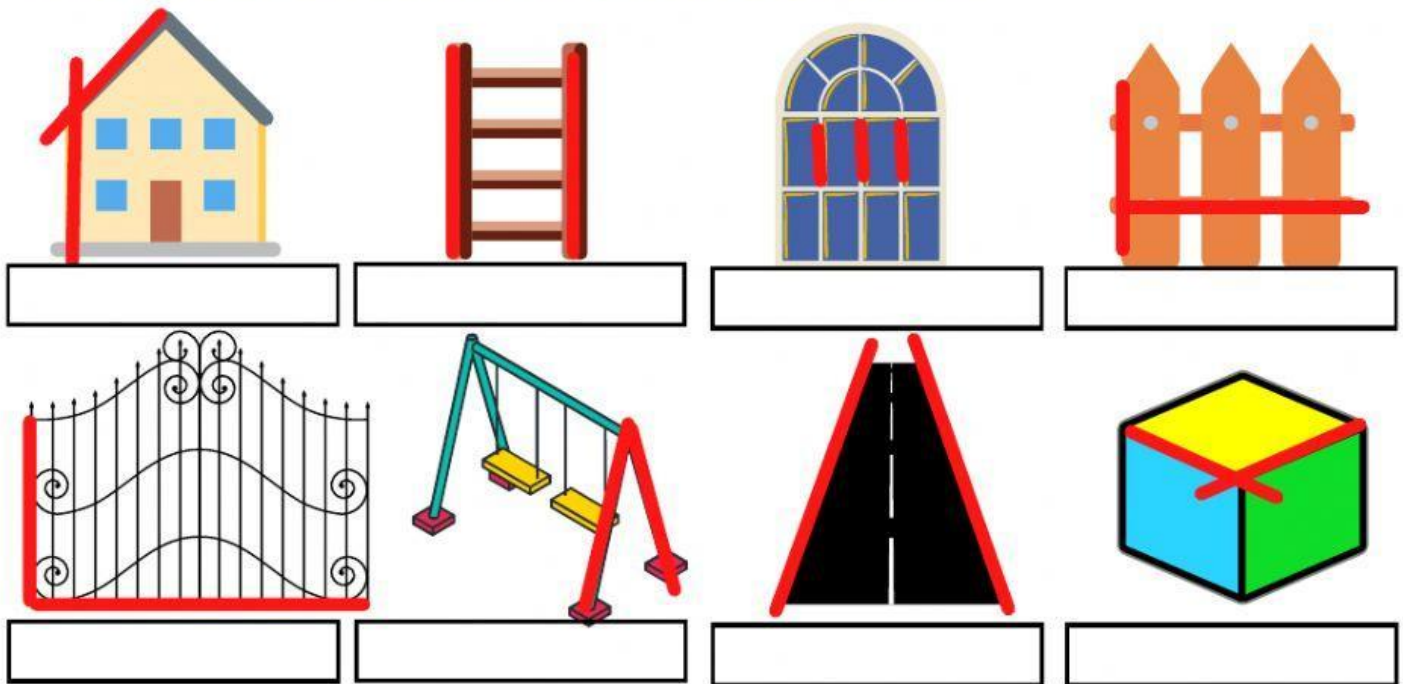
Es una línea recta que va de izquierda a derecha

Es aquella línea recta que se posiciona de forma inclinada.

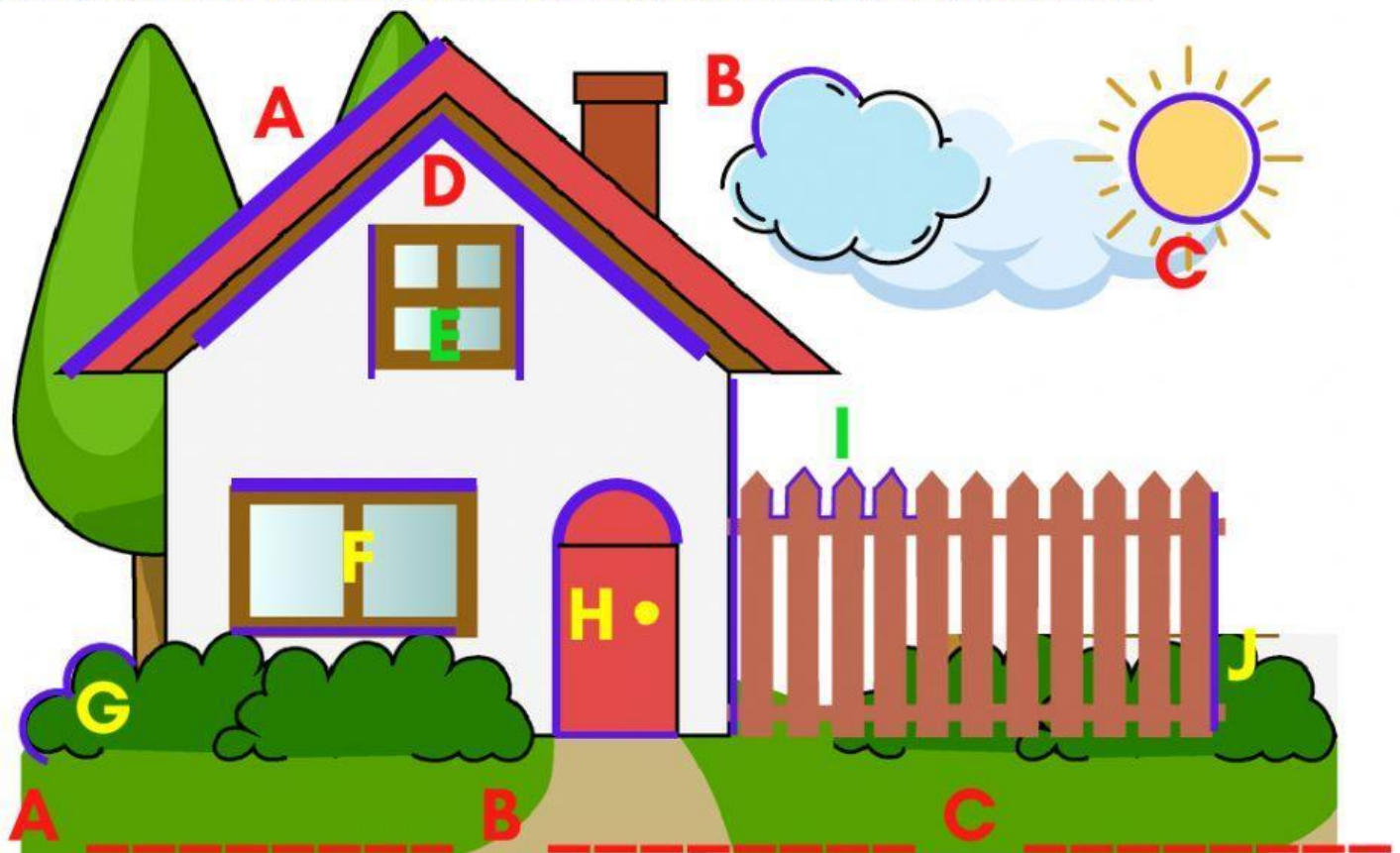
SELECCIONA SEGÚN CORRESPONDA



ESCRIBE QUE TIPO DE LINEA SEGÚN SU POSICIÓN



ESCRIBE QUE TIPO DE LINEA SEGÚN SU FORMA Y DIRECCION



A _____ B _____ C _____
 D _____ E _____ F _____
 G _____ H _____ I _____
 J _____ K _____ L _____

SELECCIONA EL TIPO DE RECTA SEGÚN CORRESPONDA

