



**SMP NEGERI 2 DAMPELAS**

# **e-LKPD**

## **INFORMATIKA**

**Topic: Hardware**




**Identitas:**

**KELOMPOK: .....**

1. ....
2. ....
3. ....
4. ....
5. ....
6. ....

# ***INSTRUCTION***

- **Simaklah tayangan video berikut ini**
- **Setelah kalian selesai menyimak tayangan video, lanjutkan dengan mengerjakan LKPD sesuai dengan petunjuk yang diberikan**
- **Setelah selesai mengisi LKPD, akhiri dengan mengklik tombol FINISH**



1. Perhatikan perangkat komputer berikut ini!

Kelompokkanlah perangkat komputer diatas berdasarkan fungsinya, dengancara menyeretnya kedalam kotak yang sesuai



| INPUT | OUTPUT | PENYIMPANAN |
|-------|--------|-------------|
|       |        |             |
|       |        |             |



2. Pilihlah nama perangkat keras berikut dengan cara mengklik pada kotak di bawahnya!








3. Perhatikan Perangkat dan Fungsinya, lalu pilihlah apakah perangkat dan fungsinya benar atau salah

| PERANGKAT   | FUNGSI NYA  | BENAR atau SALAH  |
|---|---|---|
|  | untuk menerima perintah, menjalankannya, dan mengeluarkan hasilnya.   | <input type="button" value="BENAR"/> <input type="button" value="SALAH"/> |
|  | untuk mengontrol kursor seperti mengarahkan, memindahkan, dan memilih teks, ikon, file, dan folder di layar monitor | <input type="button" value="BENAR"/> <input type="button" value="SALAH"/> |

4. Yang termasuk perangkat Pemrosesan adalah....

- A. Monitor
- B. Mouse
- C. CPU
- D. Keyboard

Jawaban :

5. Tanpa adanya Software komputer tetap dapat dipergunakan dengan baik.

**BENAR**

**SALAH**

6. Dibawah ini Jenis-jenis perangkat keras yang harus terdapat didalam sebuah CPU agar dapat berfungsi dengan baik, kecuali.



6. Pilihlah perangkat komputer dibawah ini yang merupakan perangkat input.



**Spaker**



**Keyboard**



**Monitor**



**Mouse**



**Flashdisk**



**Joystick**

7. Dengarkan nama perangkat yang diucapkan, kemudian pilihlah apakah nama itu benar atau salah.

