

LEMBAR KERJA PESERTA DIDIK (LKPD)

Mata Pelajaran : Biologi
Kelas/Semester : XI/1
Materi : Sistem Pencernaan Makanan

Kompetensi Dasar:

- 1.7 Menganalisis hubungan antara struktur jaringan penyusun organ pada sistem pencernaan dalam kaitannya dengan nutrisi, bioproses, dan gangguan fungsi yang dapat terjadi pada sistem pencernaan manusia.

Tujuan Pembelajaran:

1. Peserta didik mengidentifikasi zat-zat yang diperlukan oleh tubuh dan mengaitkannya dengan menu makanan sehat.
2. Peserta didik mengidentifikasi organ-organ pencernaan pada tubuh manusia
3. Peserta didik memahami mekanisme pencernaan pada manusia.

Petunjuk Kerja:





1. LKPD ini dikerjakan secara mandiri oleh peserta didik.
2. Peserta didik dapat mencari berbagai sumber informasi dari Buku Bahan Ajar atau dari sumber belajar lainnya yang relevan.

Nama	
No. Absen	
Kelas	

Soal

Jawab dan lengkapi pertanyaan dibawah ini!

1. Tariklah jawaban yang sesuai dengan gambar!

No.	Bahan atau Sumber Makanan	Nama Zat Makanan	Fungsi Bagi Tubuh
1			
2			
3			
4			

Karbohidrat

Protein

Sumber energi
utama

Pelarut vitamin
A,D,E,K

Vitamin A

Lemak

Pertumbuhan dan
perbaikan jaringan
tubuh

Menjaga kesehatan
mata

2. Lengkapi nama gambar organ-organ berikut ini!

