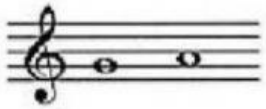




INTERVALOS

Ejercicio 1:

Señala con una T (tono) o una S (semitono) la distancia entre estas notas.


1. 

4. 

2. 


5. 

3. 

6. 

Ejercicio 2:

Indica el número de los siguientes intervallos.



Ejercicio 3:

Indica la cantidad de tonos y semitonos que hay entre estas notas.



Ejercicio 4:

Indica si se trata de un intervalo ascendente o descendente.



Ejercicio 5:

Indica si los siguientes intervallos son melódicos o armónicos.



Ejercicio 6:

Indica si los siguientes intervallos son conjuntos o disjuntos.

