





¡Cuidado con las compras!

Observa los precios de los juguetes y completa las expresiones.

			
S/. 32,27	S/. 23,76	S/. 12,49	S/. 18,53



Con S/. 100 compré un carrito y un avión. Gasté S/. y recibí S/. de vuelto.



Con S/. 50 compré 2 pelotas y un avión. Gasté S/. y recibí S/. de vuelto.



Con S/. 80 compré una muñeca y 2 carritos. Gasté S/. y recibí S/. de vuelto.



Con S/. 100 compré 2 muñecas y 2 pelotas. Gasté S/. y recibí S/. de vuelto.

Resuelvo problemas con canjes de billetes y monedas

Interpreta las expresiones de los siguientes niños y responde:

Mario: "Tengo 2 billetes de S/. 50 y 3 billetes de S/. 20"

Celso: "Tengo 4 monedas de S/. 5 y 6 billetes de S/. 10"

Alejandro: "Tengo 5 billetes de S/. 20 y 12 monedas de S/. 5"

Diego: "Tengo 3 billetes de S/. 100 y 2 monedas de S/. 1"

Stefano: "Tengo 1 billete de S/. 50, 3 billetes de S/. 20 y dos monedas de S/. 5"

- ¿Qué niño tiene más dinero?
- ¿Qué niños tienen la misma cantidad de dinero?
- ¿Cuánto dinero tienen en total todos los niños?



Juan y Pedro son dos hermanos que tienen el hábito de ahorrar dinero en un chanchito para luego romperlo y comprarse con lo ahorrado algo que les guste mucho. Observa.





Juan	
Pedro	

Responde.

a. Pedro ahorró:

b. Juan ahorró:

c. ¿Quién ahorró más?

d. ¿Cuál es la diferencia entre sus ahorros?