



LEMBAR KERJA PESERTA DIDIK

Nama Anggota :

1.

2.

3.

4.

Kelompok :

Kelas :

Materi Organ Pencernaan Hewan



MATERI

1. Satuan Pendidikan : SDN 1 Kediri
2. Kelas / Semester : V / 1
3. Tema : 3
4. Materi Pokok : Organ Pencernaan Hewan dan Fungsinya

Tujuan Pembelajaran

1. Siswa dapat memahami sistem pencernaan hewan ruminansia
2. Siswa dapat mengetahui fungsi dari bagian-bagian organ pencernaan hewan ruminansia



Ayo Mengamati



A. Perhatikan video di bawah ini!



B. Jawablah pertanyaan dibawah ini sesuai dengan informasi pada video di atas!

Petunjuk: ketik jawaban pada kolom yang tersedia

1. Berapa fase hewan ruminansia mengunyah makanannya?

2. Jalur penghubung antara rongga mulut dengan lambung disebut?

3. Bagian lambung yang disebut perut besar yaitu

4. Bagian yang berfungsi menyerap sari-sari makanan setelah diproses di dalam lambung adalah

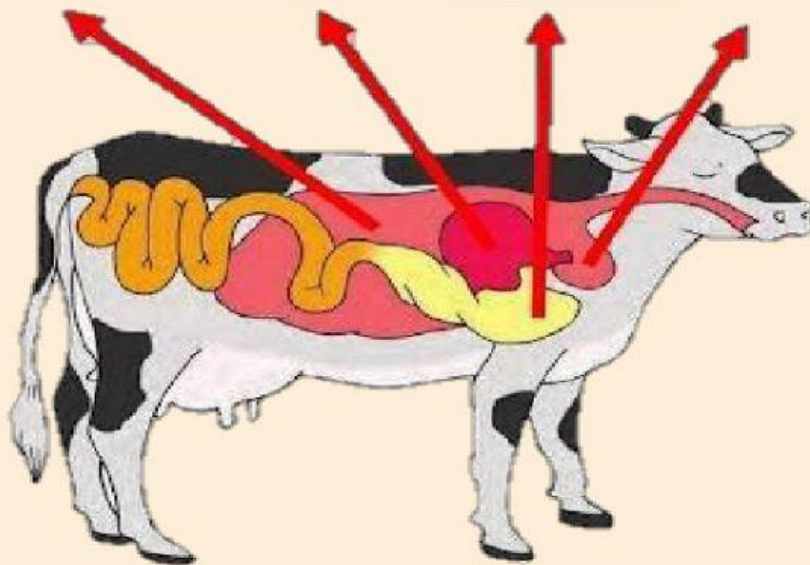


Ayo Mencoba



ISILAH BAGIAN-BAGIAN DARI ORGAN SAPI BERIKUT INI!

Petunjuk: ketik jawaban pada kolom yang tersedia



Setelah kalian mengisi bagian-bagian organ pada lambung sapi, jodohkanlah bagian organ-organ sesuai dengan fungsinya berikut!

Abomasum



Penyimpan sementara & membantu menguraikan makanan

Omasum



Memecah makanan menjadi gumpalan kasar (bolus) & memuntahkan kembali ke mulut

Reticulum



Menghaluskan makanan & penyerapan air

Rumen



Mencerna makanan melalui enzim & dibawa menuju usus



Ayo Berlatih



PILIH LAH JAWABAN YANG MENURUT KAMU BENAR!

Petunjuk: klik pada jawaban yang menurut kamu benar





1. Kelompok hewan mamalia yang biasa memamah (memakan) dua kali dan dikenal dengan hewan memamah biak disebut..


- ☐ Amfibi
- ☐ Ruminansia
- ☐ Karnivora
- ☐ Omnivora

2. Tempat masuknya makanan dan dimulainya proses pencernaan terjadi pada organ?

- ☐ Lambung
- ☐ Usus
- ☐ Kerongkongan
- ☐ Mulut

3. Berikut yang termasuk hewan ruminansia, kecuali?

- ☐ 
- ☐ 
- ☐ 
- ☐ 



4. Apa fungsi lidah pada sapi?

☐ Mendorong makanan ke lambung

☐ Memotong makanan

☐ Menghancurkan makanan

☐ Mengiris makanan

5. Pilihlah masing-masing satu jawaban dalam satu tabel pada proses pencernaan pada hewan Ruminansia (Sapi) pada tabel berikut!

Petunjuk: pilih salah satu jawaban pada kolom kosong yang menurut kamu benar

