

ATIVIDADES DE MATEMÁTICA

1 – Observe a figura abaixo. Quantos gramas tem o produto mostrado?



- a) 1.000 gramas.
- b) 3.000 gramas.
- c) 5.000 gramas.
- d) 7.000 gramas

2 – Complete corretamente as lacunas abaixo.

- a) 2 Kg é o mesmo que _____ gramas.
- b) 3 Kg é o mesmo que _____ gramas.
- c) 1kg e meio é o mesmo que _____ gramas.
- d) A metade de meio quilo é o mesmo que _____ gramas.







3 – Um pacote de café, como mostra a figura abaixo, possui 250 gramas.



Quantos pacotes iguais a esse eu preciso para formar:

- a) 1 kg? _____
- b) 2 kg? _____
- c) 3kg e meio? _____

4 – Assinale a alternativa que melhor representa o “peso” das imagens representadas abaixo.

 <p>(A) 30 toneladas (B) 30 g (C) 30 kg</p>	 <p>(A) 2 kg (B) 2 mg (C) 2 g</p>	 <p>(A) 180 kg (B) 180 g (C) 180 toneladas</p>
 <p>(A) 28 kg (B) 28 g (C) 28 mg</p>	 <p>(A) 3 toneladas (B) 300 kg (C) 3000 g</p>	 <p>(A) 100 g (B) 100 Kg (C) 10 g</p>

Imagens disponíveis em: <https://www.atacado.com.br/arroz-tipo-1-raroz-pacote-5kg/>; <https://www.clubeextra.com.br/produto/152472/cafe-pilao-torrado-e-moido-tradicional-almofada-250g>; <https://br.pinterest.com/pin/792703971901955588>; <https://br.freepik.com/fotos-vetores-gratis/gato>; <https://www.virtualsaude.com.br/replica-de-fatia-de-pao-integral-de-forma-unidade-p265>; <https://pt.dreamstime.com/ilustra%C3%A7%C3%A3o-stock-crian%C3%A7a-dos-desenhos-animados-menino-feliz-image60891284>; <https://pixabay.com/pt/vectors/orca-baleia-assassina-23182/>; <https://imagensemoldes.com.br/desenho-passarinho-png/>. Acesso em 31/10/2022.