

Paloma quiere comprar una bicicleta que cuesta 273 €. Para ello va a ahorrar 13 € a la semana.

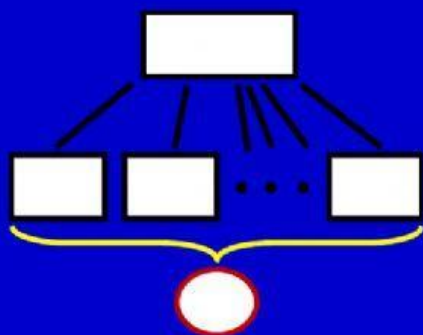
¿Cuántas semanas necesita ahorrar para comprar la bici?

Carlos va a ahorrar 14 € a la semana durante 21 semanas para comprarse una bicicleta.

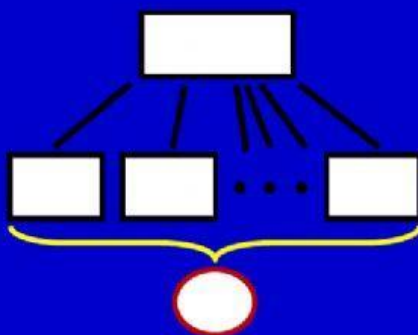
¿Cuánto cuesta la bicicleta?

Bernardo quiere comprar una bicicleta que cuesta 285 €. Para ahorrarlos va a poner la misma cantidad de dinero en una hucha durante 19 semanas.

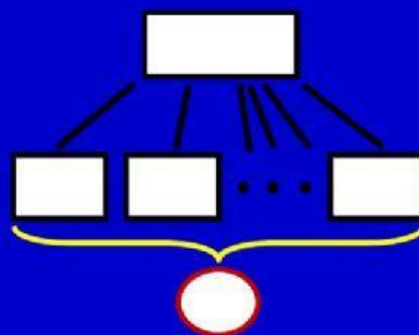
¿Cuánto va a ahorrar a la semana?



OPERACIÓN



OPERACIÓN



OPERACIÓN