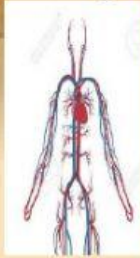


## LEMBAR KERJA PESERTA DIDIK

Nama Siswa : .....

1. Amati gambar dibawah ini kemudian jodohkan dengan gambar yang tepat!



Gambar A

Paru-Paru



Gambar B

Pembuluh Darah



Gambar C

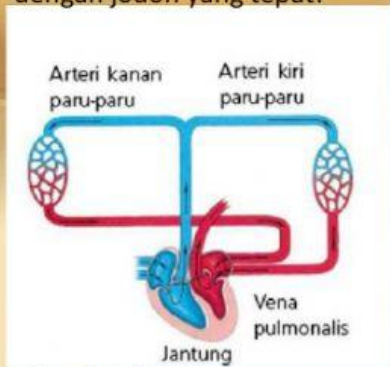
Jantung

2. Bacalah pantun dibawah ini!

*Roda becak ada tiga,  
seiring waktu berputar melulu.  
Tiap hari aku olahraga,  
agar jantungku sehat selalu.*

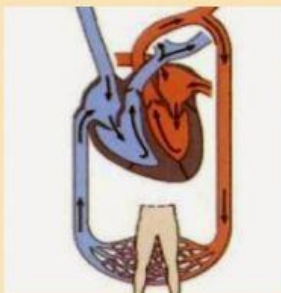
- a. Pantun diatas besajak ..... dan ....
- b. Sampiran pantun diatas ditunjukkan oleh baris ke ..... dan .....
- c. Isi dari pantun diatas adalah baris ke ..... dan ....
- d. Pantun diatas terdiri dari .... bait
- e. Satu bait pantun terdiri dari .... baris

3. Amati gambar peredaran darah di bawah ini! Kemudian jodohkan dengan point di kanannya, dengan jodoh yang tepat!



Gambar A

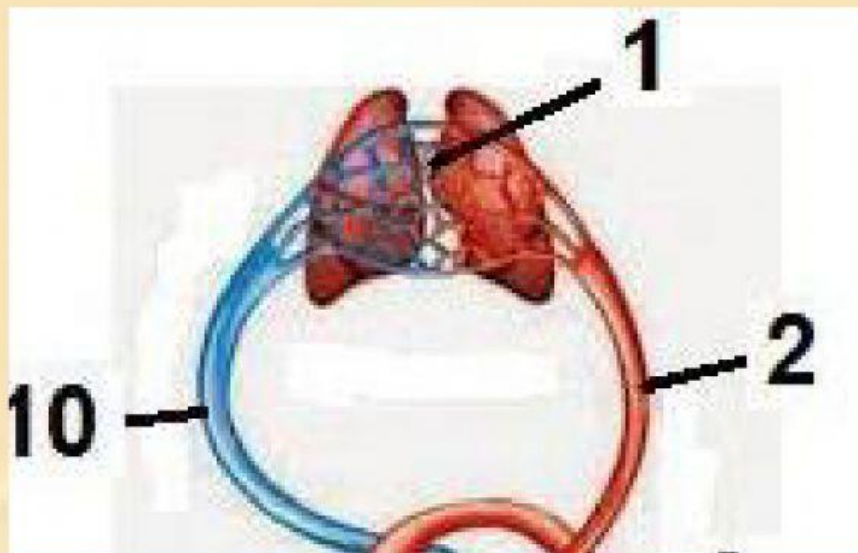
Peredaran Darah besar



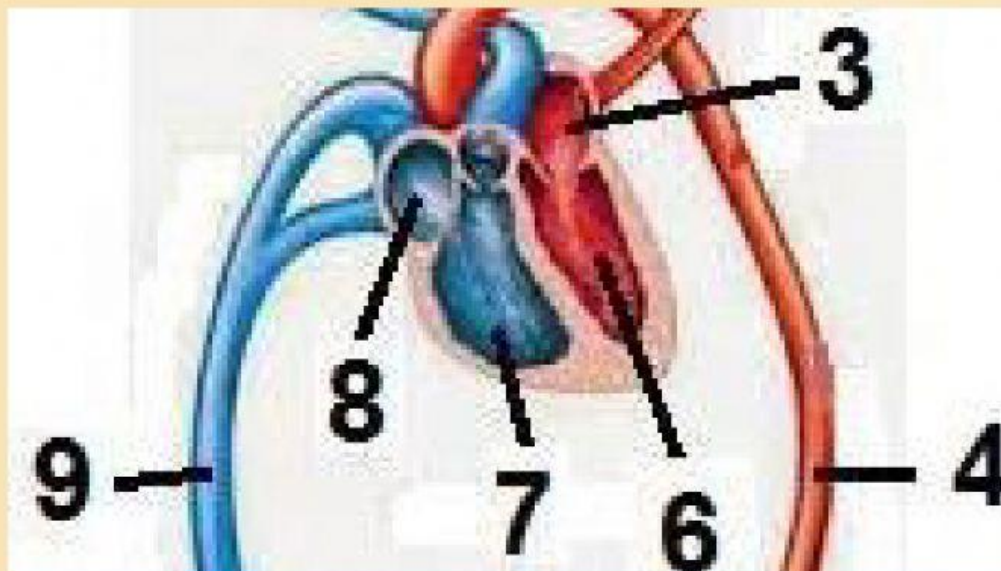
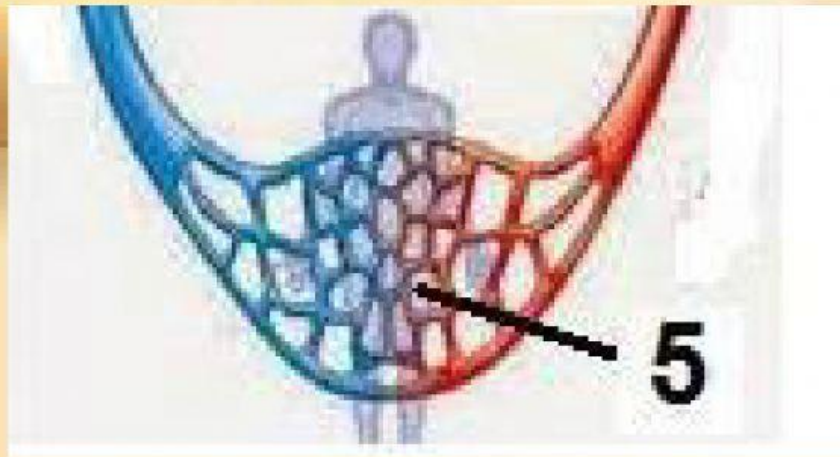
Gambar B

Peredaran darah kecil

4. Susunlah alat-alat peredaran darah di bawah ini dengan susunan yang tepat, kemudian beri keterangan pada setiap nomor digambarnya!









LEMBAR PENYUSUNAN GAMBAR PEREDARAN DARAH

A.



B.



C.

