







## TALLER

1. Escribe el nombre de las siguientes figuras musicales y su duración

	Nombre	Duración
	<input type="text"/>	<input type="text"/>
	<input type="text"/>	<input type="text"/>
	<input type="text"/>	<input type="text"/>

2. Escribe a que figura pertenecen los siguientes silencios

	<input type="text"/>
	<input type="text"/>
	<input type="text"/>

3. Completa la definición de pentagrama

El pentagrama es un \_\_\_\_\_ de cinco líneas horizontales \_\_\_\_\_ que guardan la misma \_\_\_\_\_ entre sí, en medio de las líneas se encuentran cuatro espacios. Tanto las líneas como los \_\_\_\_\_ se cuentan de abajo hacia arriba.