

ТАЛБАЙ БА ЭЗЛЭХҮҮНИЙ НЭГЖ

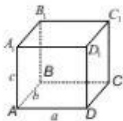
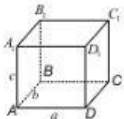
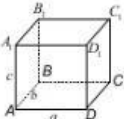
Гүйцэтгэлийн түвшин: I



<p>1.</p> <p>6 ар =м²</p> <p style="text-align: center;">←————→</p> <p>6 м² =ар</p>	<p>2.</p> <p>2 га =км²</p> <p style="text-align: center;">←————→</p> <p>2 км² =га</p>	<p>3.</p> <p>5 дм² =см²</p> <p style="text-align: center;">←————→</p> <p>5 см² =дм²</p>
<p>4.</p> <p>2 м³ =дм³</p> <p style="text-align: center;">←————→</p> <p>2 дм³ =м³</p>	<p>5.</p> <p>3 м³ =л</p> <p style="text-align: center;">←————→</p> <p>3 л =м³</p>	<p>6.</p> <p>4 см³ =мм³</p> <p style="text-align: center;">←————→</p> <p>4 мм³ =см³</p>

Гүйцэтгэлийн түвшин: II



<p>7. Параллелепипедийн хэмжээсүүд a = 1см; b = 2см; c = 2см</p> 	<p>$S_{ABCD} = \dots\dots\dots\text{см}^2$</p> <p>$S_{AA_1B_1B} = \dots\dots\dots\text{см}^2$</p> <p>$V = \dots\dots\dots\text{см}^3$</p>	<p>$S_{ABCD} = \dots\dots\dots\text{мм}^2$</p> <p>$S_{AA_1B_1B} = \dots\dots\dots\text{мм}^2$</p> <p>$V = \dots\dots\dots\text{мм}^3$</p>
<p>8. Параллелепипедийн хэмжээсүүд a = 2м; b = 3м; c = 6м</p> 	<p>$S_{ABCD} = \dots\dots\dots\text{м}^2$</p> <p>$S_{AA_1B_1B} = \dots\dots\dots\text{м}^2$</p> <p>$V = \dots\dots\dots\text{м}^3$</p>	<p>$S_{ABCD} = \dots\dots\dots\text{ар}$</p> <p>$S_{AA_1B_1B} = \dots\dots\dots\text{ар}$</p> <p>$V = \dots\dots\dots\text{дм}^3$</p>
<p>9. Параллелепипедийн хэмжээсүүд a = 8см; b = 9см; c = 12см</p> 	<p>a =см</p> <p>$S_{\text{гадаргуу}} = \dots\dots\dots\text{см}^2$</p> <p>$V = \dots\dots\dots\text{см}^3$</p>	<p>a =м</p> <p>$S_{\text{гадаргуу}} = \dots\dots\dots\text{м}^2$</p> <p>$V = \dots\dots\dots\text{м}^3$</p>


Гүйцэтгэлийн түвшин: III



<p>10. Ирмэгүүд нь харгалзан 40 см, 30 см, 50 см шилэн аквариум луу цоргоор ус гоожуулав. Хэдэн литр ус гоожиж байж аквариум дүүрэх вэ?</p>		<p>.....</p>
<p>11. “Хаадын гэр” компани урт нь 55см, өргөн нь 35см, өндөр нь 45см хэмжээтэй авдар үйлдвэрлэдэг. Худалдан авагч авдар дотроо хамгийн ихдээ хэдэн метр куб торго хадгалах боломжтой вэ?</p>		<p>.....</p>
<p>12. Загасны аквариум 2 дм, 3дм, 4 дм хэмжээстэй.</p> <p>А. 10 см квадрат шил 1000 төгрөг бол аквариумын үнийг ол.</p> <p>Б. Аквариумыг дүүргэхэд хэдэн литр ус хэрэгтэй вэ?</p> <p>В. Хоосон аквариум 8 кг жинтэй бол дүүрэн устай аквариумын жинг ол.</p>		<p>.....</p> <p>.....</p> <p>.....</p>

Гүйцэтгэлийн түвшин: IV



<p>13. Монгол улс 1566600 км.кв газар нутагтай. 2021 оны байдлаар 3409939 хүн амтай болсон гэж статистикийн газар мэдээлжээ. Нэг хүнд ноогдох газар нутгийн хэмжээг м² илэрхийлж ойролцоогоор ол.</p> <p>.....</p>		
<p>14. 2021 оны тоогоор 67343760 толгой мал тоологдсон бол нэг малд ноогдох газар нутгийн хэмжээг метрээр илэрхийлж мянгатаар тоймлож ол.</p> <p>.....</p>		
<p>15. “Газрын тухай хууль”-ийн дагуу иргэн бүртээ 0.07 га газрыг гэр бүлийн хэрэгцээнд зориулж өмчлүүлбэл 2021 оны байдлаар хэдэн га газрыг өмчлүүлэх вэ?</p>	<p>.....</p>	
<p>16. Монгол улсын газар нутгийн 183000 км² талбай нь ой модоор бүрхэгдсэн байдаг. Бид газар нутгийнхаа 30%-ийг ой мод болгохын тулд хэдэн км² талбайд мод тарих хэрэгтэй вэ?</p>	<p>.....</p>	