

Ubicación de casillas en una cuadrícula

1. Observa las siguientes cuadrículas e indica dónde se ubican los objetos dibujados en ellas.

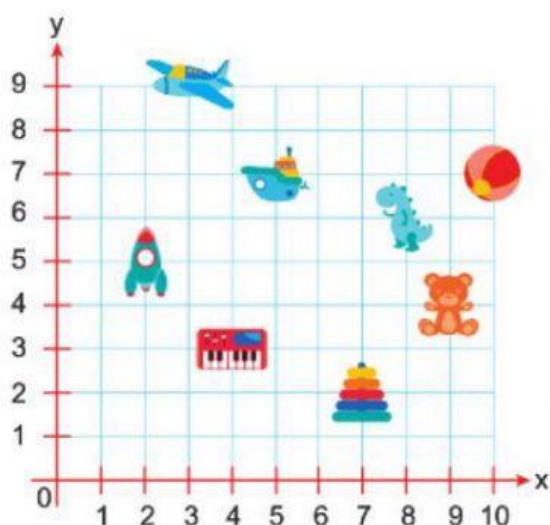


Figura	Ubicación	Figura	Ubicación
	(;)		(;)
	(;)		(;)
	(;)		(;)
	(;)		(;)

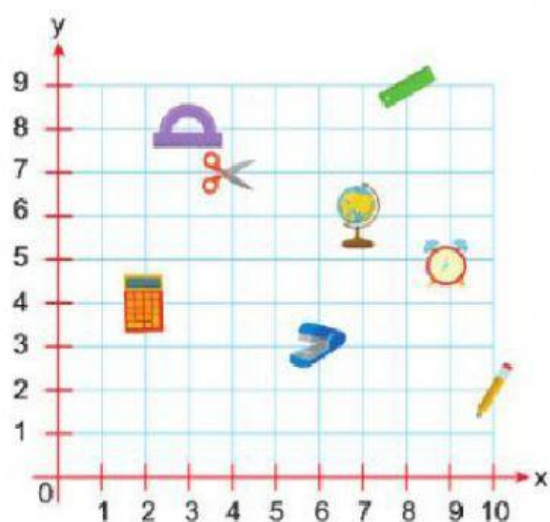


Figura	Ubicación	Figura	Ubicación
	(;)		(;)
	(;)		(;)
	(;)		(;)
	(;)		(;)

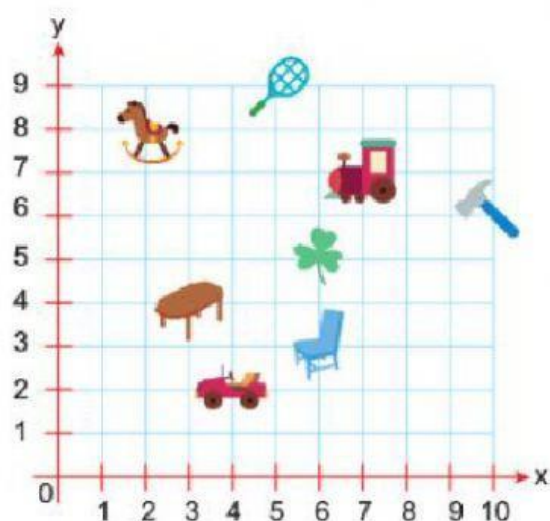


Figura	Ubicación	Figura	Ubicación
	(;)		(;)
	(;)		(;)
	(;)		(;)
	(;)		(;)