

1. Selecciona la opción correcta.







¿Qué es una Provincia?

- a) La unión de dos o más Provincias.
- b) La unión de dos o más cantones.
- c) La unión de las parroquias rurales y parroquias urbanas.

2. Une lo correcto:

Regiones del Ecuador.	221
Provincias del Ecuador.	4
Cantones del Ecuador.	24

3. Encerrar las figuras que representan los símbolos de la Provincia de Los Ríos.

4. Selecciona las actividades culturales de la provincia.

<input type="radio"/> 	<input type="radio"/> 	<input type="radio"/> 
<input type="radio"/> 	<input type="radio"/> 	<input type="radio"/> 