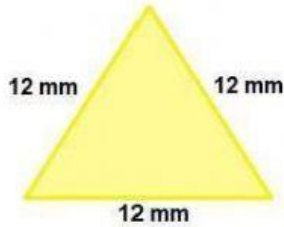


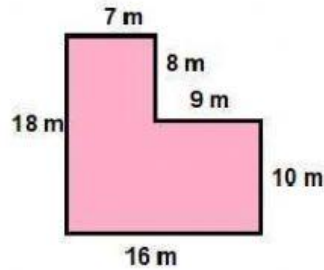


PERÍMETRO Y ÁREA – 5TO. CICLO

1. Calcule el perímetro de los siguientes polígonos.



P= ____ mm



P= ____ mm



P= ____ mm

2. Calcule el área de los siguientes polígonos. Arrastre a cada casilla la fórmula que corresponde, luego realice los cálculos correspondientes.

A= L x L

A= $\frac{b \times h}{2}$




Fórmula:

A=

A=

A= cm²



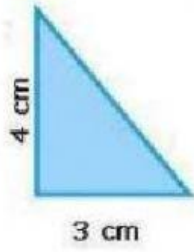
Fórmula:

A=

A= m²

$$A = \frac{b \times h}{2}$$

$$A = b \times a$$



Fórmula: 

Fórmula: 

$$A = \frac{\square \circ \square}{\square}$$

$$A = \square \circ \square$$

$$A = \frac{\square}{\square}$$

$$A = \square \text{ dm}^2$$

$$A = \square \text{ cm}^2$$

I.E. 0083 S.J.M.
Aula de Innovación Pedagógica
Nivel Primaria
Krupskaja
Ascarza Gozzing