




LKPD

(LEMBAR KERJA PESERTA DIDIK)

PERANGKAT KERAS KOMPUTER (HARDWARE)



NURUL AFIFAH, S.KOM

LKPD 2 : PERANGKAT KERAS KOMPUTER (*HARDWARE*)

Kompetensi Dasar	Indikator Pencapaian Kompetensi
3.1 Mengidentifikasi jenis berbagai komponen perangkat keras komputer	3.1.1 Menyebutkan jenis perangkat keras yang berfungsi sebagai alat <i>output</i> , dan penyimpanan komputer
4.1 Menguraikan fungsi-fungsi perangkat keras komputer	4.1.1 Menyebutkan fungsi dari perangkat keras komputer sebagai alat output dan penyimpanan

Tujuan


Melalui kegiatan pengamatan perangkat di rumah, di lab. Komputer, di lingkungan sekitar masing-masing :

1. Peserta didik mampu menyebutkan jenis perangkat keras komputer bagian *output* dan penyimpanan dengan berdiskusi kelompok secara teliti dan bertanggung jawab
2. Peserta didik mampu menyebutkan fungsi dari perangkat keras komputer sebagai alat output dan penyimpanan secara berdiskusi kelompok



A. Materi

Perhatikan Video di bawah ini !





B. Peralatan dan Bahan

- Berbagai perangkat keras komputer bagian output (monitor, speaker, printer, proyektor)
- Berbagai perangkat keras komputer bagian media penyimpanan (HDD, DVD, Flashdisk)



C. Tugas

Setelah memahami bacaan dan video yang ada silahkan analisis soal berikut:

1. Pada setiap hari Sabtu, disekolahmu melakukan kegiatan Senam Pagi. Alat apa yang digunakan untuk memperbesar suara lagu senam dan bagaimana cara kerja dari alat tersebut?

2. Alfalan memiliki tugas kelompok. Ia ingin memberikan tugasnya kepada Mitha. Ia membutuhkan sebuah alat untuk menyimpan dokumen tersebut. Alat apa yang digunakan Alfalan untuk memberikan tugasnya kepada Mitha?

Soal Drop Down dan Check Boxes



SSD

☐

Benar

☐


Salah

Soal Pilihan Ganda

1. Perangkat ini berfungsi untuk menampilkan data berupa teks, gambar, dan video adalah
 - a. Monitor
 - b. Prosessor
 - c. Promotor
 - d. Proyektor

2. Perangkat dibawah ini merupakan memory dalam sebuah komputer, dalam perangkat keras sering disebut dengan....

- a. RAM
- b. ROM
- c. RUM
- d. RIM



Soal Menarik Garis



PROYEKTOR



HARDDISK



FLOPPY DISK



FLASHDISK



HEADSET

Kelompok :

Kelas :

1.

2.

3.

4.

5.