

Escola: \_\_\_\_\_

















Nome: \_\_\_\_\_ Turma: \_\_\_\_\_

Nome: \_\_\_\_\_

Data: \_\_\_\_\_

1)

Vamos calcular e registrar o valor em dinheiro  
que cada criança possui?

<p>Camila</p> 	<p>R\$ _____</p> 	<p>Felipe</p> 	<p>R\$ _____</p> 
<p>Joana</p> 	<p>R\$ _____</p> 	<p>Marina</p> 	<p>R\$ _____</p> 
<p>Henrique</p> 	<p>R\$ _____</p> 	<p>Manuela</p> 	<p>R\$ _____</p> 
<p>Gabriel</p> 	<p>R\$ _____</p> 	<p>José</p> 	<p>R\$ _____</p> 

2) Realize as subtrações e escreva os resultados por extenso.



-



=



-



=



-



=



-



=



-



=



3)

OBSERVE A PRIMEIRA QUESTÃO, DIGITE O NOME DE CADA BRINQUEDO E O VALOR DO TROCO A SER DEVOLVIDO EM CADA COMPRA:



URSO

Valor: 12 reais

Pagou



Troco: 8 reais



Valor: 7 reais

Pagou



Troco: \_\_\_\_\_



Valor: 4 reais

Pagou



Troco: \_\_\_\_\_



Valor: 14 reais

Pagou



Troco: \_\_\_\_\_



Valor: 17 reais

Pagou



Troco: \_\_\_\_\_



Valor: 3 reais

Pagou



Troco: \_\_\_\_\_

**4.)** Complete as frases de acordo com o nosso sistema monetário.

- a) No Brasil, nossa unidade monetária é o \_\_\_\_\_, seu símbolo é \_\_\_\_\_.
- b) O real está dividido em 100 partes iguais. Cada uma das partes chama-se \_\_\_\_\_.
- c) R\$ 1,00 é igual a \_\_\_\_\_ centavos.

**5.)** Pesquise em panfletos de supermercados o preço dos produtos abaixo e escreva os valores.

a) 5 kg de açúcar



b) 1 dúzia de ovos



c) 1 litro de leite



d) 1 kg de frango



e) 1 dúzia de banana



f) 5 kg de arroz



6) IDENTIFIQUE QUAIS COMBINAÇÕES FORMAM



7) OBSERVE OS VALORES QUE TEM CADA COFRINHO E ESCREVA-O.

