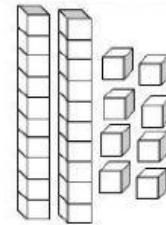


	INSTITUCIÓN EDUCATIVA CIUDAD DE CARTAGO Nit. 836000146-1 Resolución de aprobación No.1669 del 3 Sep./2002	Página 1 de 4
		CÓDIGO: 250.4.10.01
	Pruebas Icfes Institucionales	VERSION 1
		Fecha de Aprobación: 09/09/2011

## Grado 1° – Matemáticas – Diana Carolina Rendón

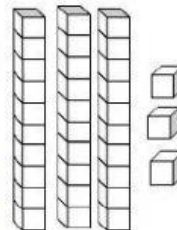
1. Cuenta las decenas y unidades y elige la opción correcta.

- a) 45
- b) 24
- c) 38
- d) 28
- e) 17



2. Cuenta las decenas y las unidades y elige la opción correcta.

- a) 33
- b) 13
- c) 32
- d) 36
- e) 50




3. ¿Cuál número hace falta? Elige la opción correcta.

- a) 4
- b) 46
- c) 49
- d) 50
- e) 14



4. ¿Cuál suma representa las decenas y unidades? Elige la opción correcta

- a)  $10 + 1$
- b)  $10 + 8$
- c)  $20 + 3$
- d)  $30 + 7$
- e)  $20 + 7$



5. ¿Observa con atención ¿Cuál es el número que no pertenece a la familia? Elige la opción correcta.

- a) 23
- b) 24
- c) 34
- d) 25
- e) 39



	<b>INSTITUCIÓN EDUCATIVA CIUDAD DE CARTAGO</b> Nit. 836000146-1 Resolución de aprobación No.1669 del 3 Sep./2002	Página <b>2</b> de <b>4</b>
		CÓDIGO: 250.4.10.01
	<b>Pruebas Icfes Institucionales</b>	VERSION 1
		Fecha de Aprobación: 09/09/2011

## Grado 1° – Castellano – Diana Carolina Rendón

1. Elije la opción con el nombre de la imagen.

- a) La Ca-ma
- b) La Lla-ma
- c) La Pa-la
- d) La Ma-le-ta
- e) La Ba-lle-na



2. Elije la opción con el nombre de la imagen.

- a) Un To-ma-te
- b) Una Ca-mi-sa
- c) La Ma-ra-ca
- d) Una Va-ca
- e) La Pa-le-ta



3. Elije la opción con el nombre de la imagen.

- a) Una Ma-ta
- b) Un Di-en-te
- c) Un Ga-ti-to
- d) Un Ca-mi-on
- e) Una Ve-la



4. Elije la opción con el nombre de la imagen.

- a) Esa Ta-za
- b) Ese Pa-ti-to
- c) Esa Ca-rre-ta
- d) Esa Sa-la
- e) Esa Da-ma



5. Elije la opción con el nombre de la imagen.


- a) Una Ba-ñe-ra
- b) Una Ca-ne-ca
- c) Una Ha-da
- d) Una Va-ca
- e) Un Za-pa-to




	<b>INSTITUCIÓN EDUCATIVA CIUDAD DE CARTAGO</b> Nit. 836000146-1 Resolución de aprobación No.1669 del 3 Sep./2002	
	<b>Pruebas Icfes Institucionales</b>	
	Página 3 de 4 CÓDIGO: 250.4.10.01	
	VERSION 1 Fecha de Aprobación: 09/09/2011	

## Grado 1° – Naturales – Diana Carolina Rendón

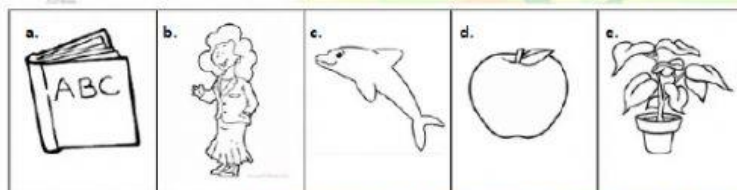
1. Elige la opción que es un ser No vivo



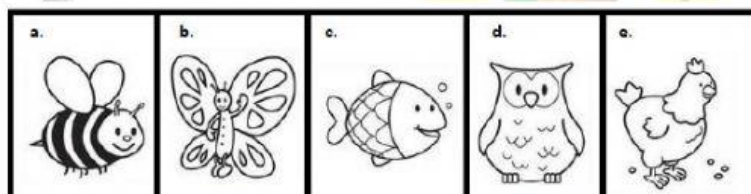
2. Elige la opción que representa a un ser que No necesita agua para vivir




3.Cuál de las siguientes opciones No crece Ni se reproduce.



4. Elige la opción que representa al animal diferente.



5. Elige la opción que representa al animal diferente.





	<b>INSTITUCIÓN EDUCATIVA CIUDAD DE CARTAGO</b> Nit. 836000146-1 Resolución de aprobación No.1669 del 3 Sep./2002	Página <b>4</b> de <b>4</b>
		CÓDIGO: 250.4.10.01
	<b>Pruebas Icfes Institucionales</b>	VERSION 1
		Fecha de Aprobación: 09/09/2011

## Grado 1° – Sociales – Diana Carolina Rendón

1. Elije la opción que mejor describe la imagen.
  - a) Ayudar a mantener limpio mi salón
  - b) Jugar con los utensilios de limpieza del salón



2. Elije la opción que mejor describe la imagen.
  - a) Empujar a mis compañeros
  - b) Ayudar a los compañeros cuando lo necesitan



3. Elije la opción que mejor describe la imagen.
  - a) Pedir la palabra para hablar
  - b) Escuchar con atención



4. Elije la opción que mejor describe la imagen.
  - a) Terminar a tiempo las tareas
  - b) Hacer las tareas lo mejor que pueda



5. Elije la opción que mejor representa la imagen.
  - a) Mantener ordenas las cosas del salón
  - b) Llevarse libros sin permiso



Imágenes tomadas de: <https://es.liveworksheets.com/bg2058754zi>