

ESCOLA: \_\_\_\_\_

NOME: \_\_\_\_\_ DATA: \_\_\_\_/\_\_\_\_/\_\_\_\_

## SISTEMA MONETÁRIO

OBSERVE A QUANTIA DE CADA CRIANÇA E RESOLVA.

LUANA



DAVI



1- QUEM TEM MAIS DINHEIRO?

2- QUANTO TEM DAVI?

3- QUANTO LUANA TEM A MAIS DO QUE DAVI?

4- QUANTO FALTA PARA DAVI COMPLETAR 100 REAIS?


5- QUANTO AS DUAS CRIANÇAS TÊM JUNTAS?

OBSERVE AS QUANTIAS EM DINHEIRO E MARQUE O QUE POSSO COMPRAR.

TENHO ➡



POSSO COMPRAR:



TENHO ➡



POSSO COMPRAR:


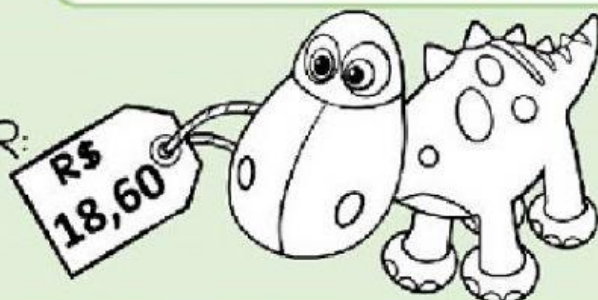




TENHO ➡




POSSO COMPRAR:



TENHO ➡



POSSO COMPRAR:



TENHO ➡



POSSO COMPRAR:

