




# RETO MATEMATICO



Me llamo \_\_\_\_\_

Nº \_\_\_\_\_

1. Fíjate bien y calcula:

$8 \times \underline{\quad} = 32 \quad 8 \times 9 = \underline{\quad} \quad 7 \times \underline{\quad} = 35 \quad 7 \times 3 = \underline{\quad}$

$8 \times \underline{\quad} = 40 \quad 8 \times 6 = \underline{\quad} \quad 7 \times \underline{\quad} = 42 \quad 7 \times 4 = \underline{\quad}$

2. Realiza estas multiplicaciones:

$$\begin{array}{r} 71 \\ \times 6 \\ \hline \end{array}$$

$$\begin{array}{r} 93 \\ \times 3 \\ \hline \end{array}$$

$$\begin{array}{r} 91 \\ \times 7 \\ \hline \end{array}$$

$$\begin{array}{r} 80 \\ \times 7 \\ \hline \end{array}$$

$$\begin{array}{r} 51 \\ \times 7 \\ \hline \end{array}$$

3. Andrés se va de campamento el primer lunes de julio y termina el tercer domingo de julio.

Se va de campamento el día \_\_\_\_\_

Termina el campamento el día \_\_\_\_\_

Ha estado de campamento  días.

Su madre fue a verle el segundo jueves del mes.

¿Qué día fue? \_\_\_\_\_

| JULIO |    |    |    |    |    |    |
|-------|----|----|----|----|----|----|
| L     | M  | X  | J  | V  | S  | D  |
|       |    |    |    | 1  | 2  | 3  |
| 4     | 5  | 6  | 7  | 8  | 9  | 10 |
| 11    | 12 | 13 | 14 | 15 | 16 | 17 |
| 18    | 19 | 20 | 21 | 22 | 23 | 24 |
| 25    | 26 | 27 | 28 | 29 | 30 | 31 |

4. ¿Cuántos días son 4 semanas y 10 días?

**Datos**

►  \_\_\_\_\_ y  \_\_\_\_\_

**Operaciones**

► 1.º  ○  =

2.º  ○  =

**Solución**

► \_\_\_\_\_

5. ¿Cuántos días hay en 5 semanas?

$$\square \bigcirc \square = \square$$

¿Cuántos lápices hay en 6 botes iguales si en un bote hay 7 lápices?

$$\square \bigcirc \square = \square$$

6. ¿Qué día de la semana es?

| MARZO |    |    |    |    |    |    | ABRIL |    |    |    |    |    |    |
|-------|----|----|----|----|----|----|-------|----|----|----|----|----|----|
| L     | M  | X  | J  | V  | S  | D  | L     | M  | X  | J  | V  | S  | D  |
|       | 1  | 2  | 3  | 4  | 5  | 6  |       |    |    |    | 1  | 2  | 3  |
| 7     | 8  | 9  | 10 | 11 | 12 | 13 | 4     | 5  | 6  | 7  | 8  | 9  | 10 |
| 14    | 15 | 16 | 17 | 18 | 19 | 20 | 11    | 12 | 13 | 14 | 15 | 16 | 17 |
| 21    | 22 | 23 | 24 | 25 | 26 | 27 | 18    | 19 | 20 | 21 | 22 | 23 | 24 |
| 28    | 29 | 30 | 31 |    |    |    | 25    | 26 | 27 | 28 | 29 | 30 |    |

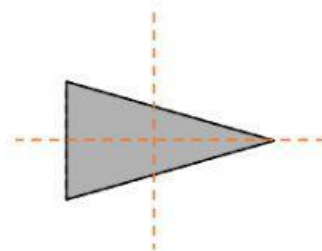
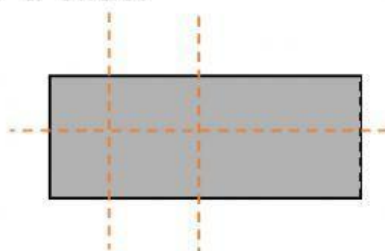
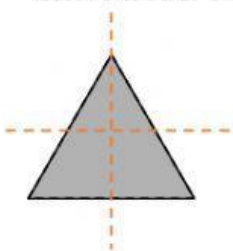
- El 8 de marzo.
- El 24 de marzo.
- El 22 de abril.

7. Jimena ha guardado en su joyero 8 pendientes en cada cajón. El joyero tiene 7 cajones. ¿Cuántos pendientes hay guardados?

**Datos** ►  $\square$  y  $\square$       **Operación** ►  $\square \bigcirc \square = \square$

**Solución** ►

8. En cada figura, marca las líneas correctas para que la figura sea simétrica respecto a ellas.



9. Realiza las siguientes multiplicaciones.

$$\begin{array}{r} 91 \\ \times 5 \\ \hline \square \end{array}$$

$$\begin{array}{r} 80 \\ \times 3 \\ \hline \square \end{array}$$

$$\begin{array}{r} 71 \\ \times 2 \\ \hline \square \end{array}$$

$$\begin{array}{r} 40 \\ \times 4 \\ \hline \square \end{array}$$

$$\begin{array}{r} 40 \\ \times 6 \\ \hline \square \end{array}$$



