



PEMERINTAH DAERAH KHUSUS IBUKOTA JAKARTA

SDN SUKABUMI SELATAN 06 PAGI

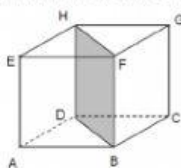
Jl. Z Kp. Baru No.60, RT.11/RW.5, Sukabumi Sel., Kec. Kb. Jeruk, Jakarta Barat, 11560

Telp. (021) 5358003 e-mail : sdn06sukssel@yahoo.co.id

NASKAH SOAL PENILAIAN AKHIR (PAS) SEMESTER GANJIL TAHUN PELAJARAN 2022-2023

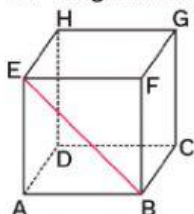
MATA PELAJARAN : MATEMATIKA (KD 3.7)
NAMA SISWA :
KELAS :

A. Berilah tanda silang (x) pada huruf a, b, c atau d di depan jawaban yang paling benar !



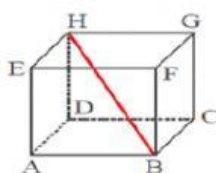
1. Pada gambar di atas, bidang BDHF yang ditunjukkan disebut

- a. diagonal sisi
- b. diagonal ruang
- c. bidang diagonal
- d. diagonal bidang



2. Garis BE pada gambar di atas adalah

- a. diagonal sisi
- b. diagonal ruang
- c. bidang diagonal
- d. diagonal kubus



3. Garis HB pada gambar tersebut adalah

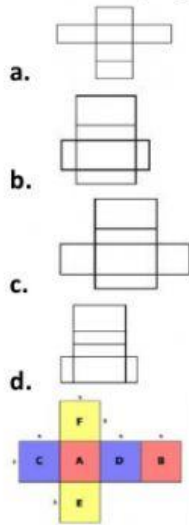
- a. diagonal sisi
- b. diagonal bidang
- c. bidang diagonal
- d. diagonal ruang



4. Agar menjadi jaring-jaring kubus, bangun persegi yang harus dihilangkan adalah nomor
- a. 1 atau 2

- b. 2 atau 3
- c. 3 atau 4
- d. 4 atau 1

5. Berikut ini yang merupakan gambar jaring-jaring balok adalah



6.

Pasangan alas dan tutup kubus yang tepat berdasarkan gambar adalah

- a. A-D
- b. B-C
- c. C-D
- d. D-E

ISILAH

1. Bangun kubus adalah bangun yang sisi-sisinya berbentuk ...
2. Banyak rusuk pada kubus maupun balok adalah
3. Banyak sisi dan titik sudut pada kubus maupun balok adalah ...
4. Banyak diagonal bidang dan diagonal ruang pada kubus adalah...