



PEMERINTAH DAERAH KHUSUS IBUKOTA JAKARTA

SDN SUKABUMI SELATAN 06 PAGI

Jl. Z Kp. Baru No.60, RT.11/RW.5, Sukabumi Sel., Kec. Kb. Jeruk, Jakarta Barat, 11560

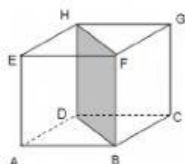
Telp. (021) 5358003 e-mail : sdn06suksel@yahoo.co.id

NASKAH SOAL PENILAIAN AKHIR (PAS) SEMESTER GANJIL TAHUN PELAJARAN 2022-2023

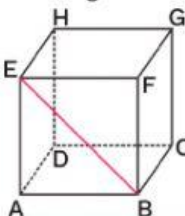
MATA PELAJARAN : MATEMATIKA (KD 3.7)
NAMA SISWA :
KELAS :

Berilah tanda silang (x) pada huruf a, b, c atau d di depan jawaban yang paling benar !

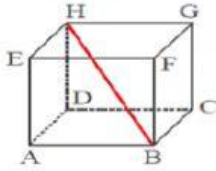
1. Banyak rusuk pada kubus maupun balok adalah
 - a. 4
 - b. 6
 - c. 8
 - d. 12
2. Banyak sisi dan titik sudut pada kubus maupun balok adalah ...
 - a. 6 dan 12
 - b. 8 dan 6
 - c. 6 dan 8
 - d. 8 dan 12
3. Banyak diagonal bidang dan diagonal ruang pada kubus adalah...
 - a. 14 dan 6
 - b. 12 dan 4
 - c. 10 dan 6
 - d. 8 dan 4



4. Pada gambar di atas, bidang BDHF yang ditunjukkan disebut
 - a. diagonal sisi
 - b. diagonal ruang
 - c. bidang diagonal
 - d. diagonal bidang



5. Garis BE pada gambar di atas adalah
 - a. diagonal sisi
 - b. diagonal ruang
 - c. bidang diagonal
 - d. diagonal kubus



6. **Garis HB pada gambar tersebut adalah**

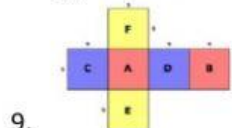
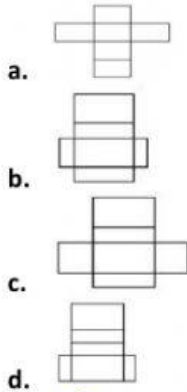
- a. diagonal sisi
- b. diagonal bidang
- c. bidang diagonal
- d. diagonal ruang



7. **Agar menjadi jaring-jaring kubus, bangun persegi yang harus dihilangkan adalah nomor**

- a. 1 atau 2
- b. 2 atau 3
- c. 3 atau 4
- d. 4 atau 1

8. **Berikut ini yang merupakan gambar jaring-jaring balok adalah**



9. **Pasangan alas dan tutup kubus yang tepat berdasarkan gambar adalah**

- a. A-D
- b. B-C
- c. C-D
- d. D-E

10. **Bangun kubus adalah bangun yang sisi-sisinya berbentuk ...**

- a. segitiga
- b. persegi
- c. persegi panjang
- d. trapesium