

Evaluación Cuarta Unidad

Primer grado



Nombre: _____

1. Clasifica los números según sean pares o impares.

| | | | | |
|----|----|----|----|----|
| 11 | 27 | 52 | 43 | 34 |
| 22 | 9 | 78 | 61 | 86 |

Pares

Impares



2. Une las adiciones que comprueban las sustracciones.

$$22 - 13 = 9$$

$$31 + 2 = 33$$

$$14 - 6 = 8$$

$$8 + 6 = 14$$

$$33 - 2 = 31$$

$$13 + 9 = 22$$

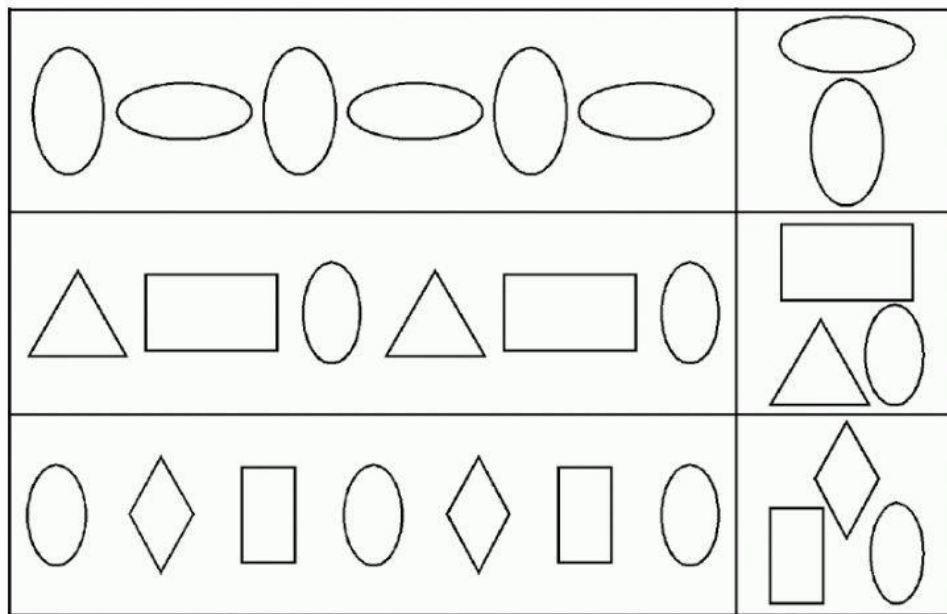
3. Marca cuál de las figuras no es simétrica.



Marca cuál de las figuras si es simétrica.



4. Marca la figura de la derecha que completa el patrón.





5. Observa los sucesos y escribe: seguro, posible o imposible



Sacar una bola amarilla del círculo es: _____

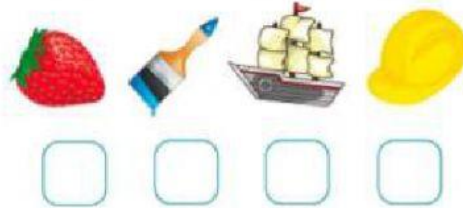
Sacar una bola azul del círculo es: _____




Sacar una bola roja del círculo es: _____

6. Marca la respuesta correcta


¿Cuál de los objetos mide menos de 5 centímetros?



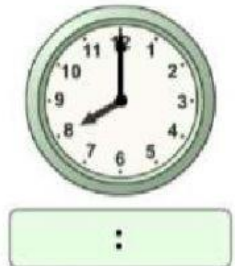
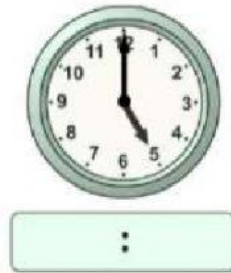
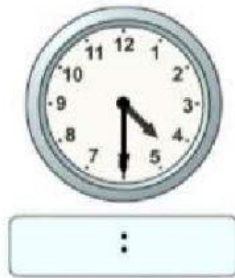
¿Cuál mide más de 100 centímetros?



¿Cuál pesa más?



7. Escribe la hora digital que marca cada reloj.



8. Escribe la cantidad de dinero representada

