


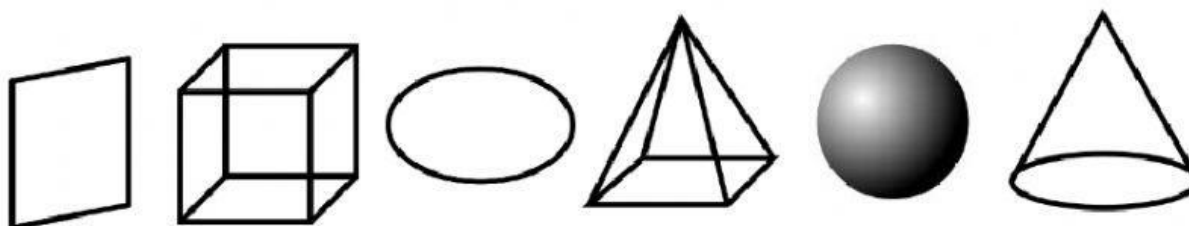
Geometrické útvary a tělesa

1. Úkol – najdi v osmisměrce slova, která jsou napsána v pravém sloupci



- šestiúhelník
- kosočtverec
- trojúhelník
- lichoběžník
- rovnoběžník
- kosodélník
- obdélník
- kružnice
- čtverec
- krychle
- elipsa
- jehlan
- kvádr
- kužel
- válec

2. Úkol – spoj obrázky s názvy



Koule

Krychle


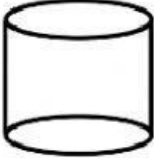
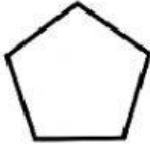
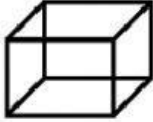
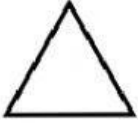

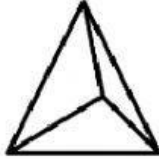

Kužel

Elipsa

Kosodélník

Jehlan

3. Úkol – označ pouze geometrická tělesa

<p>Čtverec</p> 	<p>Válec</p> 	<p>Pětiúhelník</p> 	<p>Kvádr</p> 
<p>Trojúhelník</p> 	<p>Obdélník</p> 	<p>Čtyřstěn</p> 	<p>Kružnice</p> 

4. Úkol – doplň správně následující tabulku

	Obvod	Obsah
		
		
