

I. Berilah tanda silang (x) pada huruf A,B, C atau D di depan jawaban yang paling benar!

1. Buku mengandung beragam informasi. Informasi yang terdapat dalam buku bisa diuraikan secara lebih detail kedalam enam jenis aspek. Aspek yang menunjukkan penyebutan alasan atau sebab dalam suatu cerita merupakan aspek

A. Siapa
B. Kapan
C. Dimana
D. Mengapa

Bacalah teks berikut ini untuk menjawab pertanyaan nomor 2 dan 3!

Banjir adalah peristiwa terbenamnya daratan yang biasanya kering karena volume air meningkat. Banjir termasuk salah satu bencana alam. Banjir dapat terjadi karena sungai dipenuhi sampah. Jika banjir terjadi, masyarakat yang tinggal di pinggir sungai kehilangan tempat tinggalnya.

2. Berdasarkan bacaan diatas. Kalimat berikut ini yang menunjukkan aspek siapa adalah....
A. Banjir adalah peristiwa terbenamnya daratan yang biasanya kering karena volume air meningkat
B. Masyarakat yang tinggal di pinggir sungai kehilangan tempat tinggalnya
C. Banjir dapat terjadi karena sungai dipenuhi sampah
D. Banjir termasuk salah satu bencana alam
3. Berdasarkan bacaan diatas. Kalimat berikut ini yang menunjukkan aspek mengapa adalah
A. Banjir adalah peristiwa terbenamnya daratan yang biasanya kering karena volume air meningkat
B. Masyarakat yang tinggal di pinggir sungai kehilangan tempat tinggalnya
C. Banjir dapat terjadi karena sungai dipenuhi sampah

D. Banjir termasuk salah satu bencana alam

Bacalah paragraf berikut untuk mengerjakan soal nomor 4-5!

Bu Dewi memiliki pohon rambutan yang cukup besar. Setiap hari, pohon tersebut menggugurkan banyak daun. Bu Dewi membersihkan daun-daun rambutan dengan membakarnya di halaman samping rumahnya, bersebelahan dengan rumah bu Fatma. Asap pembakaran daun rambutan mengarah ke rumah Bu Fatma. Bu Fatma merasa sangat terganggu dengan asap pembakaran daun setiap kali Bu Dewi membakar daun. Terlebih lagi, Alfy anak Bu Fatma memiliki penyakit asma. Asap pembakaran tidak bagus bagi penderita asma.

4. Informasi penting dari teks di atas yaitu
A. Bu Dewi memiliki pohon rambutan lebat
B. Asap pembakaran tidak bagus bagi penderita asma
C. Asap pembakaran daun masuk ke rumah Bu Dewi
D. Bu Dewi membersihkan daun-daun rambutan setiap hari
5. Kalimat tanya yang sesuai dengan isi bacaan di atas adalah
A. Mengapa pohon rambutan menggugurkan daunnya?
B. Berasal dari mana asap yang mengarah ke rumah Bu Fatma?
C. Apa yang baik untuk orang yang memiliki penyakit asma?
D. Kapan sebaiknya kita membakar daun rambutan yang berguguran?
6. Latar tempat pada bacaan di atas adalah
A. Rumah Bu Fatma
B. Rumah Bu Dewi
C. Halaman samping rumah Bu Dewi
D. Halaman samping rumah Bu Fatma
7. (1) Ayah membeli hadiah untuknya
(2) Adik akan berulang tahun esok
(3) Adik merasa senang menerima kejutan dan hadiah dari kami
(4) Aku dan ibu menghias hadiah tersebut
Susunan yang baik untuk langkah-langkah dalam membuat gambar ilustrasi di atas adalah
A. 1-3-4-2
B. 2-1-4-3

C. 2-1-3-4

D. 4-3-2-1

8. Perhatikan penggalan cerpen berikut untuk menjawab soal nomor 8-9!

Tetapi sekarang ini, pagi hari ini, Ade bersungut-sungut. Kak Nina sakit, berarti tidak berangkat ke sekolah dan tidak ada yang mengantarkan dagangan ke warung-warung. Ibu sudah lama tidak bisa pergi ke mana-mana karena mudah sakit kepala. Satu-satunya yang bisa diharapkan adalah Ade.

Berdasarkan cerpen di atas, Ade bersungut-sungut karena

- A. Terlambat sekolah
- B. Lupa belum belajar untuk ulangan
- C. Terburu-buru ada janji dengan temannya
- D. Tidak mau disuruh mengantarkan kue ke warung-warung

9. Latar waktu penggalan cerpen di atas adalah

- A. Pagi hari
- B. Siang hari
- C. Saat mengantarkan kue
- D. Saat berangkat sekolah

10. Perhatikan paragraf berikut ini!

Ikan tembakul memiliki beberapa keunikan. Salah satu keunikan ikan ini terletak pada sifatnya yang suka melompat ke darat. Sifat ini juga didukung oleh kemampuannya untuk berjalan, memanjat dan melompat dengan menggunakan pangkal sirip di dadanya. Selain itu, ikan tembakul juga mampu bertahan hidup di darat selama 7-8 menit. Itulah beberapa keunikan yang dimiliki oleh ikan tembakul.

Pertanyaan yang tepat untuk paragraf di atas adalah

- A. Mengapa ikan tembakul dapat bertahan hidup di darat?
- B. Apa saja keunikan dari ikan tembakul?
- C. Bagaimana ikan tembakul bertahan hidup?
- D. Dimana ikan tembakul dapat ditemukan?

11. Beni mengenal baik Kota Blitar yang kaya akan tempat bersejarah.

Kata yang tepat untuk melengkapi kalimat rumpang tersebut adalah

- A. Di
- B. Akan
- C. Dengan
- D. Dari

12. Bacalah paragraf berikut untuk mengerjakan soal nomor 12 dan 14!

Taman kompleks perumahan di Kota Pontianak mulai ramai sore itu. Beberapa anak bermain ayunan dan perosotan. Beberapa yang lain duduk di dahan terendah sebuah pohon rindang. Di sebelah kanan pohon berdahan rendah itu tumbuh beberapa tanaman apotek hidup yang tertata rapi. Rumpun jahe, kunyit, kencur, temu lawak, serai, lidah buaya, ginko, kumis kucing, keji beling, beluntas, dan masih banyak lagi. Berbagai tanaman berkhasiat itu dipelihara oleh ibu-ibu warga perumahan.

Latar waktu paragraf di atas adalah

- A. Saat bermain ayunan
- B. Sore hari
- C. Siang hari
- D. Di bawah pohon rindang

13. Latar tempat paragraf di atas adalah

- A. Di bawah pohon rindang
- B. Kebun sayuran
- C. Taman kompleks perumahan
- D. Di dahan pohon

14. Dari bacaan di atas, tanaman manakah yang dapat digunakan untuk mengobati masuk angin

- A. Jahe
- B. Beluntas
- C. Temu lawak
- D. Lidah buaya

15. Di bawah ini pernyataan yang tepat mengenai aspek bagaimana adalah

- A. Menunjukkan penyebutan atau penjelasan tempat
- B. Menunjukkan penjelasan mengenai suatu hal atau benda
- C. Menunjukkan penyebutan nama orang, jabatan, atau pekerjaan
- D. Menunjukkan keterangan cara atau proses, penjelasan ciri – ciri, atau penjelasan karakter tokoh

16. Dataran rendah adalah hamparan tanah yang luas dengan ketinggian antara

- A. 300-500 MDPL
- B. 0-200 MDPL
- C. 500-600 MDPL
- D. Lebih dari 700 MDPL

17. Pada saat libur semester Edo dan keluarganya berlibur ke rumah kakeknya di Sirih Kencong Wlingi. Di rumah kakeknya, Edo merasakan udara yang sejuk dan suasana yang sunyi pada malam hari. Suasana di sana sangat berbeda dengan rumahnya yang berada di dekat jalan provinsi dan selalu bising suara kendaraan melintas. Dari cuplikan cerita di atas, rumah kakek Edo termasuk daerah

- A. Dataran rendah
- B. Dataran tinggi
- C. Pegunungan
- D. Selat

18. Di bawah ini yang termasuk kenampakan alam perairan adalah

- A. Bukit, rawa, dan sungai
- B. Pantai, sawah, dan danau
- C. Sungai, danau, dan bukit
- D. Rawa, pantai, dan sungai

19. Daerah yang membatasi daratan dengan perairan laut adalah

- A. Selat
- B. Danau
- C. Pantai
- D. Sungai

20. Gambar di samping adalah siklus hidup nyamuk. Siklus hidup nyamuk termasuk metamorfosis

- A. Sempurna
- B. Tidak sempurna
- C. Tidak memiliki metamorfosis
- D. Siklus hidup tanpa metamorfosis



21. Perhatikan teks berikut !

- (1) Nyamuk
- (2) Belalang
- (3) Capung
- (4) Ayam
- (5) Kecoa

Hewan-hewan di atas yang mengalami metamorfosis tidak sempurna ditunjukkan oleh nomor

- A. 1, 2, dan 3
- B. 2, 3, dan 4
- C. 2, 4, dan 5
- D. 2, 3, dan 5

22. Hewan-hewan di bawah ini yang memiliki siklus hidup yang sama adalah

- A. Nyamuk dan jangkrik
- B. Katak dan belalang
- C. Kecoa dan kupu-kupu
- D. Jangkrik dan semut

23. Minyak bumi dan gas alam merupakan energi yang berasal dari perut bumi. Oleh karena itu minyak bumi dan gas alam termasuk

- A. Energi terbarukan
- B. Energi alternatif
- C. Energi tak terbarukan
- D. Energi yang tidak dapat habis

24. Perhatikan teks berikut !

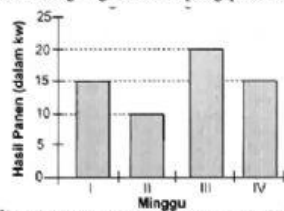
- (1) Matahari
- (2) Angin
- (3) Propane
- (4) Air
- (5) Nuklir

Energi di atas yang termasuk Energi Alternatif ditunjukkan oleh nomor

- A. 1, 2, dan 3
- B. 1, 3, dan 4
- C. 1, 2, dan 4
- D. 1, 4, dan 5

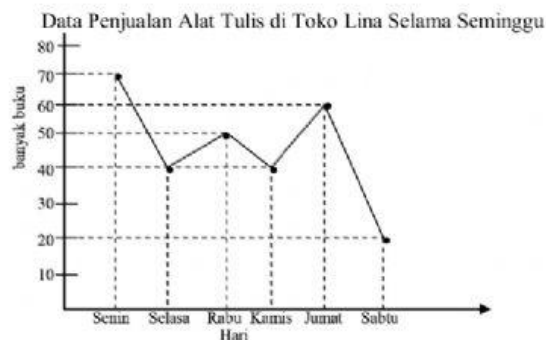
25. Energi yang tersimpan pada benda akibat kondisi atau kedudukannya adalah
- Energi Kinetik
 - Energi potensial
 - Energi mekanik
 - Energi listrik
- Perhatikan diagram batang berikut untuk menjawab soal nomor 26-28!

Hasil Panen Jagung Desa Bajang pada Bulan Juli



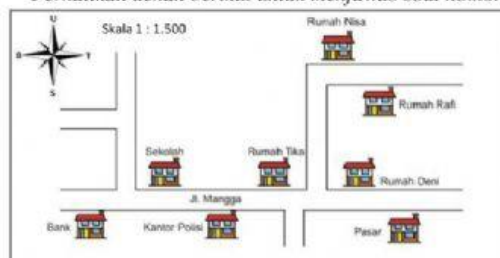
26. Selisih panen jagung pada minggu ke II dan minggu ke IV adalah kuintal.
- 10
 - 5
 - 15
 - 25
27. Berdasarkan diagram diatas, penurunan hasil panen terjadi pada minggu ke
- I dan II
 - II dan IV
 - III dan IV
 - II dan III
28. Hasil panen di Desa Bajang terjadi kenaikan pada minggu ke
- I
 - II
 - III
 - IV

Perhatikan diagram garis berikut untuk menjawab soal nomor 29-30!



29. Penjualan alat tulis yang paling banyak terjadi pada hari....
- Senin
 - Selasa
 - Rabu
 - Jumat
30. Dalam seminggu terjadi kenaikan dan penurunan hasil penjualan alat tulis di Toko Lina. Penurunan yang sangat drastis terjadi pada hari
- Selasa
 - Kamis
 - Jumat
 - Sabtu

Perhatikan denah berikut untuk menjawab soal nomor 31-34!



31. Berdasarkan denah tersebut, Rumah Tika berada di sebelah
- A. Barat Sekolah
 - B. Selatan Kantor Polisi
 - C. Timur Bank
 - D. Barat Rumah Deni
32. Skala pada denah tersebut adalah
- A. 1:150 m
 - B. 1:1550 cm
 - C. 1:15.000 cm
 - D. 1:1.500 m
33. Jika Skala pada denah tersebut 1 : 1.500. Artinya 1 cm jarak pada denah sama dengan.....jarak sebenarnya.
- A. 1.500 m
 - B. 150 cm
 - C. 1.500 cm
 - D. 150 m
34. Nisa hendak berangkat ke sekolah. Maka rute yang harus dilalui Nisa adalah....
- A. Lurus ke selatan – belok ke timur di jl. mangga
 - B. Lurus ke selatan – belok ke barat sedikit – belok ke selatan
 - C. Lurus ke timur – belok ke selatan
 - D. Lurus ke selatan – belok ke barat di jl. mangga
35. Jarak SDN Sumber dengan Aloon Aloon Blitar pada peta adalah 14 cm. Jika jarak sebenarnya antara SDN Sumber dengan Aloon Aloon Blitar adalah 14 km, maka skala pada denah tersebut adalah
- A. 1:140.000
 - B. 1:100.000
 - C. 1:1.000.000
 - D. 1:1.400.000