



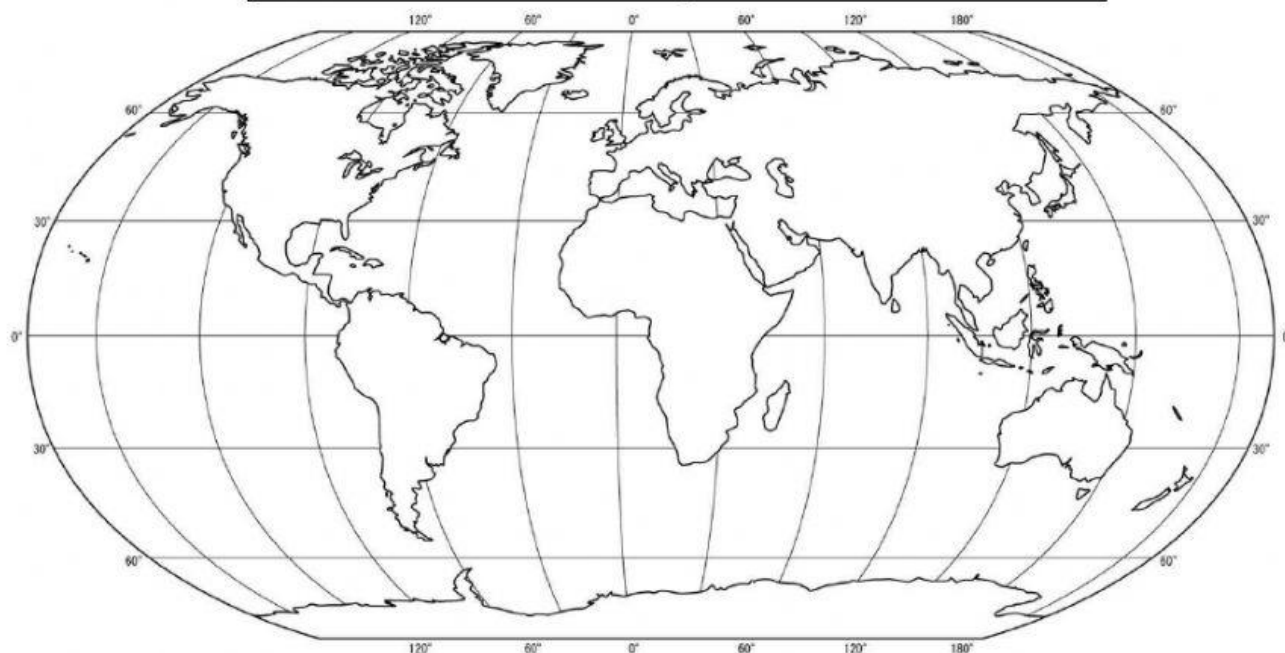
Área: **Ciencias Sociales** Asignatura: **Ciencias Sociales** Curso: **Quinto A** Periodo: **I**

Profesor: **Adriana Milena Bareño Zambrano** Estudiante _____

Competencia 1: Identifica las características geográficas más importantes del Territorio Colombiano

I. Señala las principales coordenadas geográficas y continentes del Planeta Tierra. En el Planisferio ubica las siguientes características:

CARACTERÍSTICAS	COLOR	CARACTERÍSTICAS	COLOR
Océano Glacial Ártico	Rojo	Asia	Café
Océano Glacial Antártico	Azul	América	Rosado
Océano Pacífico	Naranja	África	Negro
Océano Atlántico	Amarillo	Antártida	Gris
Océano Índico	Morado	Europa	Añil
Oceanía		Piel	



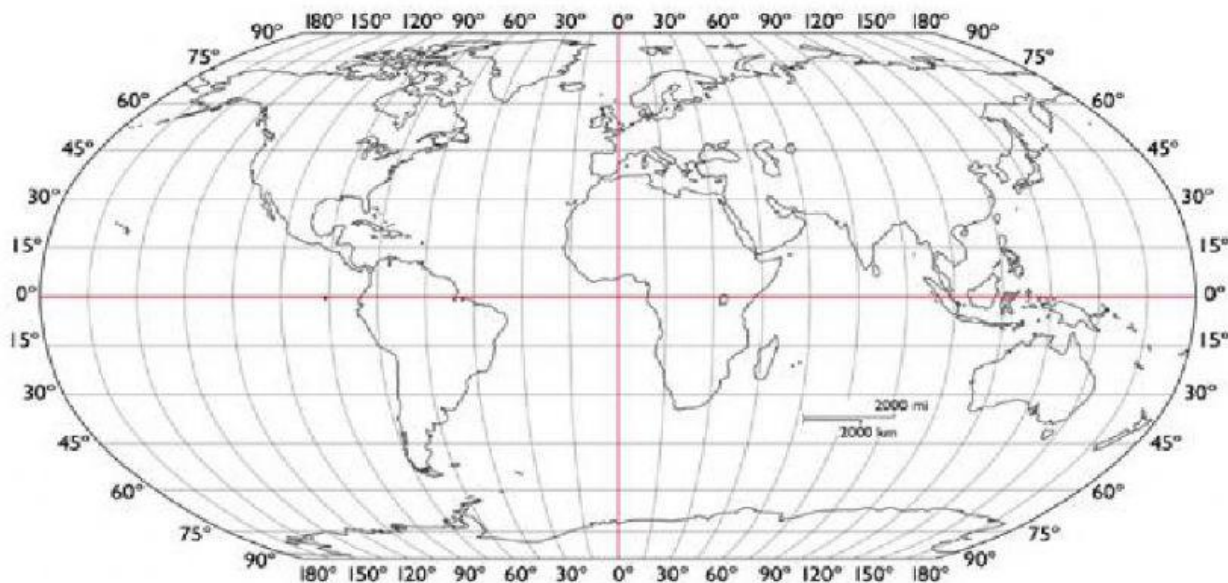
II. Identifica los conceptos básicos de Geografía Política (Coordenadas Geográficas). Relaciona la columna A con la Columna B.

Columna A - Concepto		Columna B – Definición
A	Meridiano	círculos imaginarios que están en posición perpendicular al eje de la tierra , poseen una circunferencia de 360° y tienen una dirección Este-Oeste
B	Paralelo	es la distancia angular entre la línea ecuatorial (el ecuador), y un punto determinado de la Tierra Según el hemisferio en el que se sitúe el punto, puede ser norte o sur.
C	Latitud	es la distancia de un punto de la Tierra contada desde un primer meridiano (el de Greenwich que pasa por el observatorio londinense de Greenwich o también llamado meridiano 0). Va de 0° a 180° y es de Este a Oeste.
D	Longitud	conjunto de ejes que permiten la ubicación en la Tierra. Sea especificada por un conjunto de números, letras o símbolos.
E	Coordenadas Geográficas	proporciona la localización de un lugar, en dirección Este u Oeste desde el meridiano de referencia 0°, o meridiano de Greenwich



III. Señala las principales coordenadas geográficas del Planeta Tierra. En el Planisferio ubica las siguientes características:

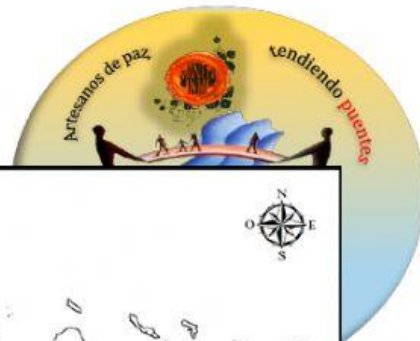
COLOR	CARACTERÍSTICAS
Rojo	Paralelo del Ecuador
Azul	Meridiano de Greenwich
Naranja	Trópico de Cáncer
Amarillo	Trópico de Capricornio
Morado	Círculo Polar Ártico
Verde	Círculo Polar Antártico



IV. Identifica la ubicación geográfica de los Continentes y los Océanos. Completa la tabla, señalando en que latitud o longitud se encuentran dichos espacios geográficos.

ESPACIO GEOGRÁFICO	LATITUD	LONGITUD
América		
Océano Glacial Ártico		
África		
Océano Atlántico		
República de Colombia		
Océano Indico		

V. Reconoce la ubicación Posición Astronómica y Posición Geográfica de la República de Colombia. Con base en la lectura, ubica en la cartografía de la República de Colombia la posición Astronómica y Geográfica; Luego Colorea



La República de Colombia se localiza al noroeste del continente de América del Sur. Al norte limita con la República de Panamá y el mar Caribe, por el Este con las Repúblicas de Venezuela y Brasil, por el Sur con las Repúblicas de Perú y Ecuador, y por el Oeste con el océano Pacífico. Su territorio tiene 1.141.748 km² de superficie continental, sumadas las aguas marinas y submarinas, 928.660 kms², la extensión es de 2.070.408 km².

El país está dividido en 32 departamentos y un distrito capital (Bogotá), además de contar con seis grandes regiones: Andina, Caribe, Pacífica, Orinoquía, Amazonía e Insular.

La posición absoluta ó astronómica de Colombia es: 12° 30' 40" latitud norte en punta gallinas (Guajira), 4°13'30" de latitud sur en la desembocadura de la quebrada San Antonio en el río Amazonas, 66°50'54" de longitud oeste desde la isla de San Josa, en el río Negro, 79° 01' 23" de longitud oeste sobre la costa pacífica en el Cabo Manglares.

