

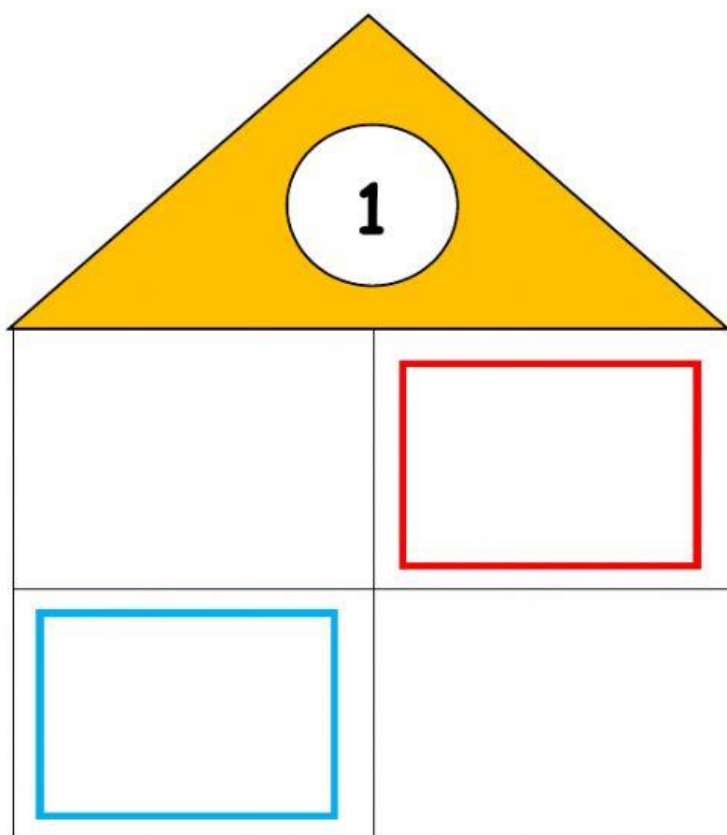




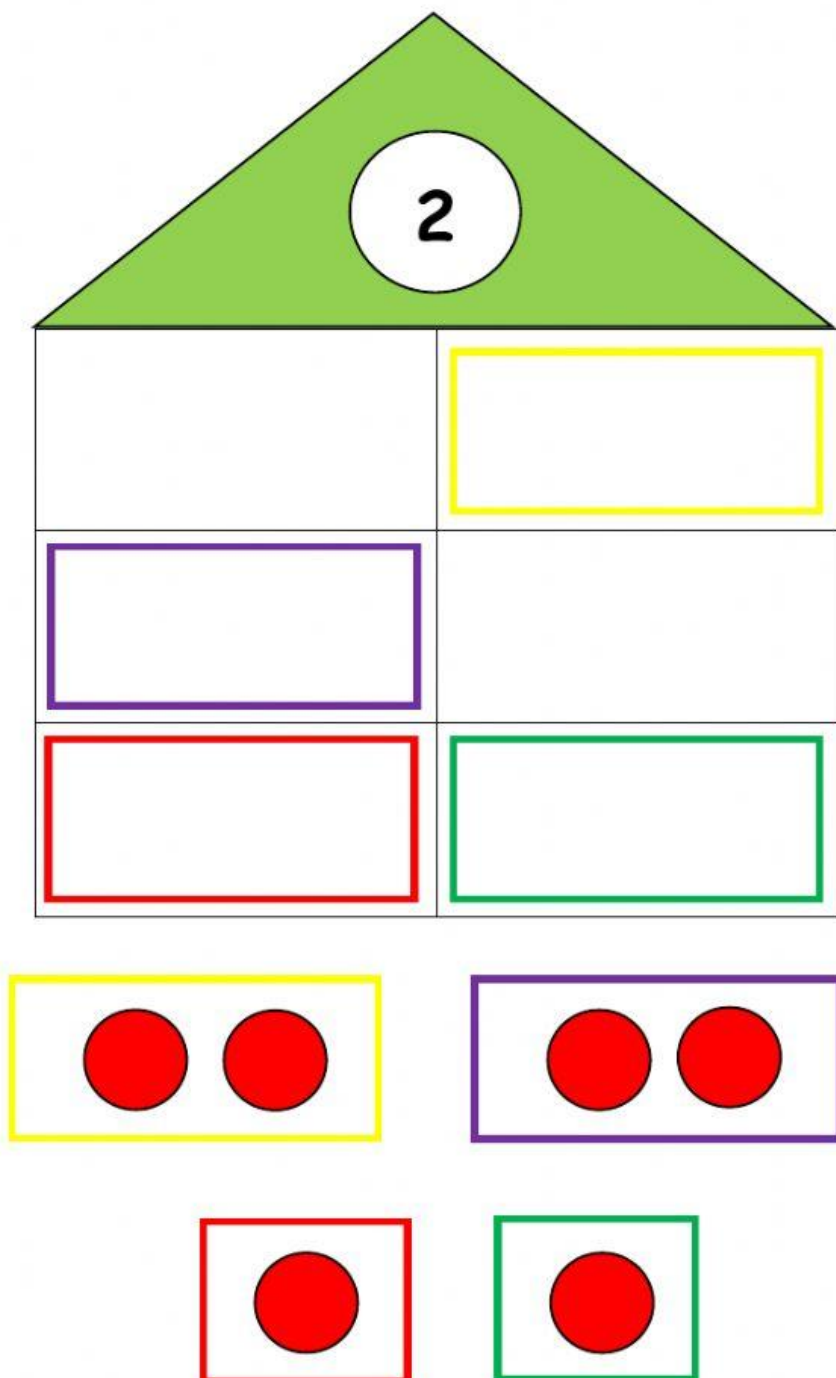
La casita de los números



1.- ¿Cuántas pelotitas se necesitan para formar el número 1?. Arrastra a la casita la cantidad necesaria.



2.- ¿Cuántas pelotitas se necesitan para formar el número 2?. Arrastra a la casita la cantidad necesaria.



3.- ¿Cuántas pelotitas se necesitan para formar el número 3?. Arrastra a la casita la cantidad necesaria.

The image shows a house-shaped grid for a math activity. The roof is red and contains a white circle with the number '3'. The main body is a 4x2 grid of white squares. Below the grid are six boxes containing red dots: three blue boxes (3, 3, 2 dots) and three purple boxes (1, 1, 2 dots).

Below the grid, there are six boxes containing red dots:

- Blue box: 3 dots
- Blue box: 3 dots
- Blue box: 2 dots
- Purple box: 1 dot
- Purple box: 1 dot
- Purple box: 2 dots